

Blue Print for Unit Test

	AS ₁	AS ₂	AS ₃	AS ₄	AS ₅	AS ₆ &AS ₇	
Essay	(1) ⁴	-	-	(1) ⁴	-	-	
Short	-	(1) ²	(1) ²	-	(1) ²	(1) ²	
Very Short	(3) ¹	-	-	-	-	(1) ¹	
MCQ	(6) ^½	(1) ^½	(1) ^½	-	(1) ^½	(1) ^½	
Total	10	2½	2½	4	2½	3½	= 25M

Academic Standards weightage Table

AS ₁	-	10
AS ₂	-	2.5
AS ₃	-	2.5
AS ₄	-	4
AS ₅	-	2.5
AS ₅ & AS ₆	-	3.5

Type of Question Table

Essay	2×4 (M)	=	10 M
Short Answer	4×2 (M)	=	8 M
Veru Short	4×1 (M)	=	4 M
MCQ	$10 \times \frac{1}{2}$ (M)	=	5 M

Syllabus for Unit Exams

Sl. No.	Unit Test	Month	Syllabus for Unit Exams
1.	I	July	1. Heat 2. Chemical reactions and equations 3. Reflection of light by different surface
2.	II	August	1. Acids, Bases and Salts 2. Refraction of light at plane surface
3.	III	November	1. Human Eye and colourful world 2. Structure of Atom 3. Classification of Elements the periodic table
4.	IV	February	1. Electro magnetism 2. Principles of Metallurgy 3. Carbon and its compounds

Unit Test - I
Sub: Physical Sciences
Topic: Heat, Chemical Reactions and Equations

Class: X

Max Marks: 25

Time: 60 min

I Answer all the questions **4 × 2 = 8 marks**

1. $2 \text{Ca}(\text{NO}_3)_2 \rightarrow 2\text{CaO} + 4\text{NO}_2 + \text{O}_2 \uparrow$
From the above equation, how many moles of NO_2 is evolved when two moles of $\text{Ca}(\text{NO}_3)_2$ is decomposed.
2. Explain the concept, why water in a new clay pot are cool?
3. During winter season you wear woolen clothes to keep your body warm. How woolen clothes helps us keep our body warm.
4. Iron oxide reacts with aluminium to form Iron and aluminium trioxide. Write the balanced chemical equation for the above reaction.

II Answer all questions **4 × 1 = 4 marks**

5. Formula of water is H_2O . Why can't we write as HO_2 explain?
6. How can you prevent currosion?
7. Three bodies A, B, C are in thermal equilibrium. Temperature of A is 30°C then what is temperature of C.
8. What is the difference between boiling and evaporation?

III Answer all questions **2 × 4 = 8 marks**

9. Two thermometers are self in two vessels containing same liquid
 - a) Internal energy of which liquid is more ?
 - b) What do you generalise from the above diagrams?
 - c) Find the fault in one of the above diagrams?
10. Calculate the volume, mass and number of molecules of hydrogen liberated when 230g of sodium reacts with excess of water at S.T.P. (atomic mass of Na = 23U, O = 16U and H = 1U).

IV Answer all questions. Pick the correct answer **10 × ½ = 5 marks**

11. Different gases are at same temperature. Which of the following is same for all gases. ()
 - a) mass
 - b) Velocity
 - c) momentum
 - d) Average kinetic energy

12. Convert 173K into °C ()
 a) 446°C b) -100°C c) 0°C D) -446°C
13. Which of the following is not correct. ()
 a) No heat transfer takes place between the bodies of the system if the system is at thermal equilibrium.
 b) The boiling temperature of water increases with the increase in pressure.
 c) the kinetic energy of the molecule is zero when the liquid is at °C
 d) 80000cal of heat is required for 1 kg ice at 0°C to becoming water.
14. A water bottle is filled completely with water, close the lid and keep in deep freeze. What do you conclude with this experiment? ()
 a) When temperature decreases, glass bottle contract and breaks.
 b) When temperature decreases, glass bottle expand and breaks.
 c) When water becomes ice, its volume increases and bottle breaks.
 d) When water becomes ice, its volume decreases and bottle breaks.
15. Wet clothes dry in rooms. Why ? ()
 a) evaporation b) condensation
 c) boiling d) melting
16. In Lays, Kurkure packets chips can be protected for long time. The gas used in these packets is ()
 a) Oxygen b) Nitrogen c) Hydrogen d) Carbon dioxide
17. During rainy season power supply interrupted from the poles. Because ()
 a) Due to the formation of metal oxide layer on the wire
 b) Due to the formation of metal sulphide layer on the wire
 c) Due to the formation of metal carbonate layer on the wire
 d) All the above
18. Which of the following is a balanced chemical equation ()
 a) $2\text{Fe} + 3\text{O}_2 \rightarrow \text{Fe}_2\text{O}_3$
 b) $\text{C}_6\text{H}_{12}\text{O}_6 \rightarrow 4\text{C}_2\text{H}_5\text{OH} + \text{CO}_2$
 c) $\text{C}_3\text{H}_8 + \text{O}_2 \rightarrow 2\text{CO}_2 + 4\text{H}_2\text{O}$
 d) $\text{NH}_4\text{NO}_3 \rightarrow \text{N}_2 + 2\text{H}_2 + \text{O}_2$
19. Brahma Reddy, added potassium Iodide Solution to the Lead nitrate solution prepared by Sudhakar. Then the colour of Lead Iodide solution is ()
 a) Green b) Yellow c) Red d) Brown
20. Reducing agent in $\text{CuO} + \text{H}_2 \xrightarrow{\Delta} \text{Cu} + \text{H}_2\text{O}$ ()
 a) CuO b) H_2 c) Cu d) H_2O

యూనిట్ పరీక్షల సిలబస్

క్ర. సంఖ్య	యూనిట్	నెల	యూనిట్ పరీక్షకు కేటాయించిన సిలబస్
1.	I	జులై	<ol style="list-style-type: none"> 1. ఉష్ణం 2. రసాయనిక చర్యలు - సమీకరణాలు 3. కాంతి పరావర్తనము
2.	II	ఆగష్టు	<ol style="list-style-type: none"> 1. అమ్లాలు - క్షారాలు - లవణాలు 2. సమతల ఉపరితలాలవద్ద కాంతి వక్రీభవనం
3.	III	నవంబర్	<ol style="list-style-type: none"> 1. మానవునికన్ను - రంగుల ప్రపంచం 2. పరమాణు నిర్మాణము 3. మూలకాల వర్గీకరణ - ఆవర్తన పట్టిక
4.	IV	ఫిబ్రవరి	<ol style="list-style-type: none"> 1. విద్యుదయస్కాంతత్వం 2. లోహ సంగ్రహణ శాస్త్రం 3. కార్బన్-దాని సమ్మేళనాలు

యూనిట్ పరీక్ష - I

విషయము: భౌతిక రసాయనిక శాస్త్రాలు

పాఠ్యాంశం: ఉష్ణం, రసాయనిక చర్యలు - సమీకరణాలు

తరగతి: 10

కాలం : 60 ని.

మార్కులు : 25

I అన్ని ప్రశ్నలకు సమాధానాలు వ్రాయుము

4 × 2 = 8 మార్కులు

1. $2 \text{Ca}(\text{NO}_3)_2 \rightarrow 2\text{CaO} + 4\text{NO}_2 + \text{O}_2 \uparrow$
ఒక మోల్ $\text{Ca}(\text{NO}_3)_2$ వినియోగం చెందినపుడు ఎన్ని మోల్ల NO_2 ఏర్పడుతుంది?
2. కుండలో నీళ్ళు చల్లగా ఉంటాయి. దీనికి గల కారణమేమి?
3. శీతల దేశంలో నీవు ఉన్నావనుకుందాం. నీవు ఉన్న వస్త్రాన్ని ధరించి నీ శరీరాన్ని వేడిగా ఉండేటట్లు చూసుకున్నావు. నీ శరీరం వెచ్చగా వుండడానికి ఉన్న వస్త్రం ఎలా సహకరిస్తుంది?
4. ఇనుప ఆక్సైడ్, అల్యూమినియమ్ తో చర్య జరిపి ఇనుము మరియు అల్యూమినియం ట్రై ఆక్సైడ్ గా ఏర్పడినవి. పై చర్యను సూచించు సమతుల్య రసాయన చర్యను వ్రాయండి.

II అన్ని ప్రశ్నలకు సమాధానాలు వ్రాయుము.

4 × 1 = 4 మార్కులు

5. నీటి యొక్క సాంకేతికం H_2O గానే రాస్తాం. HO_2 గా ఎందుకు రాయకూడదో తెల్పండి.
6. త్రుప్పు పట్టడాన్ని నీవు ఎలా నివారిస్తావు?
7. A, B, C వస్తువులు ఉష్ణసమతాపితిలో వున్నవి. A వస్తు ఉష్ణోగ్రత 30°C అయితే C వస్తు ఉష్ణోగ్రత ఎంత?
8. మరగడం, భాష్పీభవనముల మధ్య తేడా ఏమిటి?

III అన్ని ప్రశ్నలకు సమాధానాలు వ్రాయుము.

2 × 4 = 8 మార్కులు

9. పటంలో చూపినట్లు ఒకే రకపు పాత్రల్లో ఒక దానిలో తక్కువ నూనెను, మరొక దానిలో చాలా ఎక్కువ మొత్తంలో నూనెను పోసారు. రెండు ధర్మామీటర్లు తీసుకొని చెరొక దానిలో వుంచిన అది ఒకే ఉష్ణోగ్రతను తెలియజేస్తున్నవి.
 - a) దేని అంతర్గత శక్తి ఎక్కువ?
 - b) పై పటం ఆధారంగా చేయగల నిర్ధారణ ఏమిటి?
 - c) పై పటంలో గల తప్పును గురితించి 10 సవరించండి.

10. S.T.P. వద్ద 230 గ్రా. సోడియం అధిక నీటితో చర్య పొందినప్పుడు విడుదలైన హైడ్రోజన్ ఘనపరిమాణం, ద్రవ్యరాశి మరియు అణ సంఖ్యను గణించండి. (Na పరమాణువు ద్రవ్యరాశి 23U, O పరమాణువు ద్రవ్యరాశి 16U, మరియు H పరమాణు ద్రవ్యరాశి 1U).

IV అన్ని ప్రశ్నలకు జవాబులు వ్రాయండి. సరియైన సమాధానాన్ని ఎన్నుకోండి. $10 \times \frac{1}{2} = 5$ మార్కులు

11. ఒకే ఉష్ణోగ్రత వద్ద వివిధ వాయువులున్నవి అయితే ఏ విలువ అన్ని వాయువులకు ఒకే విధంగా వుంటుంది ()
 a) ద్రవ్యరాశి b) వేగం c) ద్రవ్యవేగం d) సరాసరి గతిజశక్తి
12. 173K ని 0°C లోకి మార్చగ ()
 a) 446°C b) -100°C c) 0°C
13. ఈ క్రింది వానిలో సరైనది కానిది ఏది? ()
 a) ఉష్ణ సమతాస్థితిలోనున్న వస్తువుల మధ్య ఉష్ణ మార్పిడి జరుగదు.
 b) పీడనములో మరుగు స్థానము పెరుగుతుంది.
 c) 0°C వద్ద గల ద్రవములోని కణాల సరాసరి గతిజశక్తి శూన్యం.
 d) 0°C వద్ద గల 1 kg మంచి నీరుగా మారటానికి 80000cal శక్తి అవసరము
14. నీటితో పూర్తిగా నింపి, గట్టిగా మూత అమర్చిన గాజు సీసాను ప్రిజ్ లో కొద్ది గంటలపాటు ఉంచిన ప్రయోగం ద్వారా మీరు నిర్ధారించిన అంశం. ()
 a) ఉష్ణోగ్రతను తగ్గిస్తే గాజు సంకోచించి పగిలిపోతుంది.
 b) ఉష్ణోగ్రతను తగ్గిస్తే గాజు వ్యాకోచించి పగిలిపోతుంది.
 c) నీరు మంచుగా మారినప్పుడు ఘనపరిమాణం పెరగడం వల్ల సీసా పగిలిపోతుంది.
 d) నీరు మంచుగా మారినప్పుడు ఘనపరిమాణం తగ్గడం వల్ల సీసా పగిలిపోతుంది.
15. గదిలో తడి బట్టలు ఆరవేసినప్పుడు పొడిగా మారటానికి గల ప్రక్రియ ()
 a) భాష్పీభవనం b) సాంద్రీకరణం c) మరగటం d) ద్రవీభవనం
16. లేస్, కుర్కరే మొదలగు చిప్స్ ప్యాకెట్ లలో చిప్స్ ఎక్కువ కాలం నిల్వ ఉండటానికి ఉపయోగించు వాయువు. ()
 a) ఆక్సిజన్ b) నైట్రోజన్ c) హైడ్రోజన్ d) కార్బన్ డైఆక్సైడ్
17. వర్షాకాలంలో కరెంటు స్తంభం నుంచి మన ఇళ్ళకు వచ్చే విద్యుత్ సరఫరా నిలిచిపోవుటకు కారణం ()
 a) విద్యుత్ తీగపై లోహపు ఆక్సైడ్ పూత ఏర్పడడం
 b) విద్యుత్ తీగపై లోహపు సల్ఫైడ్ పూత ఏర్పడడం.
 c) విద్యుత్ తీగపై లోహపు కార్బనేట్ పూత ఏర్పడటం.
 d) పై వన్నీ

18. క్రింది వానిలో తుల్య సమీకరణం ()
- a) $2\text{Fe} + 3\text{O}_2 \rightarrow \text{Fe}_2\text{O}_3$
- b) $\text{C}_6\text{H}_{12}\text{O}_6 \rightarrow 4\text{C}_2\text{H}_5\text{OH} + \text{CO}_2$
- c) $\text{C}_3\text{H}_8 + \text{O}_2 \rightarrow 2\text{CO}_2 + 4\text{H}_2\text{O}$
- d) $\text{NH}_4\text{NO}_3 \rightarrow \text{N}_2 + 2\text{H}_2 + \text{O}_2$
19. సుధాకర్ తయారుచేసిన లెడ్ నైట్రేట్ ద్రావణానికి బ్రహ్మరెడ్డి తాను తయారుచేసిన పొటాషియం అయోడైడ్ ద్రావణాన్ని కలిపినాడు. ఫలితంగా ఏర్పడిన లెడ్ అయోడైడ్ రంగు ఏమై ఉండవచ్చు. ()
- a) ఆకుపచ్చ b) పసుపు c) ఎరుపు d) జేగురు
20. $\text{CuO} + \text{H}_2 \xrightarrow{\Delta} \text{Cu} + \text{H}_2\text{O}$ చర్యలో క్షయకరిణి ()
- a) CuO b) H₂ c) Cu d) H₂O

	AS ₁				AS ₂				AS ₃				AS ₄				AS ₅				AS ₆ & AS ₇			
	E	SA	VSA	OB	E	SA	VSA	OB	E	SA	VSA	OB	E	SA	VSA	OB	E	SA	VSA	OB	E	SA	VSA	OB
1. Heat	-	(1) ²	-	(1) ^{1/2}	-	-	-	-	(1) ^{1/2}	(1) ⁴	-	-	-	-	-	-	-	-	-	-	-	-	-	(1) ^{1/2}
2. Chemical Reaction & Equations	-	-	(1) ¹	(1) ^{1/2}	-	-	(1) ^{1/2}	(1) ^{1/2}	-	-	-	-	(1) ⁵	-	-	-	-	-	-	-	-	-	-	-
3. Reflections of light	-	-	-	(1) ^{1/2}	-	-	(1) ¹	-	-	-	-	-	(1) ^{1/2}	(1) ⁵	-	-	-	-	-	-	-	-	-	-
4. Acids - Basis	-	-	-	(1) ^{1/2}	-	-	(1) ¹	(1) ^{1/2}	(1) ²	-	-	-	(1) ^{1/2}	-	-	-	-	-	-	-	-	-	-	-
5. Refractions of light	-	(1) ²	-	-	-	-	-	-	-	-	-	-	(1) ^{1/2}	-	-	-	-	-	-	-	-	-	-	-
6. Refraction o flight curved surface	-	-	-	(1) ^{1/2}	-	-	-	-	-	-	-	-	(1) ^{1/2}	-	-	-	-	-	-	-	-	-	-	(1) ^{1/2}
7. Human eye****	-	-	-	-	-	(1) ²	-	-	-	-	(1) ¹	-	(1) ⁴	-	-	-	-	-	-	-	-	-	-	(1) ^{1/2}
8. Atomic *****	(1) ⁴	-	-	(1) ^{1/2}	-	(1) ²	-	-	-	-	-	-	-	(1) ²	-	-	-	-	-	-	-	-	-	-
9. Periodic classification	-	(1) ²	-	(1) ^{1/2}	-	-	-	-	-	-	-	-	-	-	-	(1) ^{1/2}	-	-	-	-	-	-	-	-
10. Chemical Bond	(1) ⁴	-	-	-	-	-	-	-	-	-	-	-	-	-	-	-	-	-	-	-	-	-	-	-
11. Current electricity	(1) ⁴	-	-	(1) ¹	(1) ^{1/2}	-	-	-	-	-	-	(1) ^{1/2}	-	-	-	-	-	-	-	-	(1) ⁴	-	-	-
12. Electromagnetic	-	(1) ²	-	(2) ^{1/2}	-	-	-	-	-	-	-	-	-	-	-	-	-	-	-	-	-	-	-	-
13. Metallurgy	-	-	(1) ²	(1) ^{1/2}	-	-	-	-	-	-	-	-	-	-	-	-	-	-	-	-	(1) ⁴	-	-	-
14. Chemistry Carban	-	-	-	(2) ¹	-	-	-	-	(1) ⁴	-	-	-	-	-	-	-	-	(1) ²	-	-	-	-	-	(1) ²

Blue Print for Unit Test

	AS ₁	AS ₂	AS ₃	AS ₄	AS ₅	AS ₆ & AS ₇	TOTAL
Essay Type	[1(P)] ⁴ [2(C)] ⁴		[1(P)] ⁴ [1(C)] ⁴	[1(P)] ⁴	[1(P)] ⁵ [1(C)] ⁵	[1(P)] ⁴ [1(C)] ⁴	
Short Answer	[2(P)] ² [1(C)] ²	[1(P)] ² [1(C)] ²		[1(C)] ²		[1(C)] ²	
Very Short Answer	[1(P)] ¹ [2(C)] ¹	[1(P)] ¹ [1(C)] ¹	[1(P)] ¹				
MCQ	[6(P)] ^½ [5(C)] ^½	[2(P)] ^½ [2(C)] ^½		[1(P)] ^½ [2(C)] ^½		[2(P)] ^½ [1(C)] ^½	
Fill in the Blanks				[3(P)] ^½		[2(P)] ^½	
Matching	[5(C)] ^½						
Total	31	08	09	09	10	12	79

Academic Standards weightage Table

AS ₁	-	31
AS ₂	-	08
AS ₃	-	09
AS ₄	-	09
AS ₅	-	10
AS ₆ & AS ₇	-	12
Total	-	79

General Science Paper - I
Sub: Physical Sciences
(English Version)

Time: 2½ hours

Max Marks:50

Instructions:

1. Answer the questions under part - A on a separate answer book.
2. Write the answer to the questions under part-B on the question paper itself and attach it to the answer book of part-A

Time: 2 hours

Max Marks:35

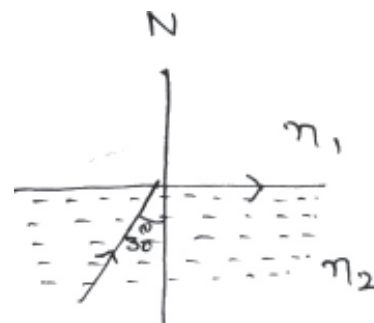
Section - I
Part-A

5 × 2 = 10

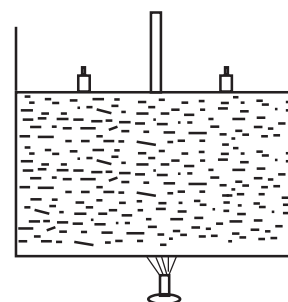
- Note:**
1. Answer any five questions choosing atleast two from each group.
 2. Each question carries two marks.

Group - A

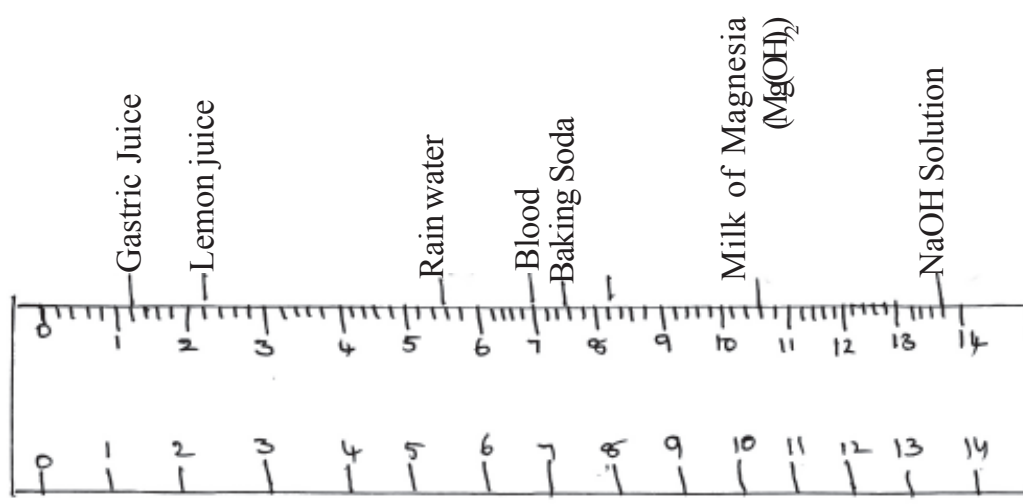
1. Look at the picture,
 - a) What is the refractive index of the denser medium.
 - b) Find the refractive index of denser medium with respect to rarer medium



2. Unpolished shoes appears dull, while polished shoes shines brightly guess the reason?
3. When an electron and a neutron are moving through uniform magnetic field with velocity 'v' perpendicular to the direction of magnetic field 'B'
 - a) Which particle deflects? Why?
 - b) What is the path of the deflected particle?
4. Consider a cylinder vessel containing water. A frictionless movable piston is arranged to the cylinder as shown in figure weights are placed on the piston . Heat the system.
 - a) When do you say that boiling process takes place?
 - b) Guess, what happens to boiling point when weights are increased?



5.



By observing the above pH scale, answer the following

- (i) Which of the body fluid have basic in nature
 - (ii) Is lemon juice a strong acid or weak acid?
 - (iii) Which of the above liquid have strong basic character?
 - (iv) What is the pH of distilled water? (As4)
6. Write the four quantum numbers for the electron that enters last in potassium atom? (AS1)
7. 'X' is an element O belongs to '3rd' period and 13th group then answer the following
- (i) Write the electron configuration of 'X'?
 - (ii) What is the valency of 'X'? (AS2)
8. How do you appreciate the role of Buck minister Pfullerin medicine ? (AS6)

Section - II

4 × 1 = 4

Note: 1. Answer any four questions of the following.

2. Each question carries two marks.

9. Ekambaram is doing an experiment using mirrors to understand the concept of magnification. He identified the situation where the magnification is found to be greater than.
- a) What type of mirror is he used in this experiment?
 - b) What is type position of the object for the above situation?
10. What is the reason for using Tungsten as a filament in electric bulb?
11. When we are inside the water, we use goggle's to see the things clearly? Give reason?

Chemistry

12. What are the compounds formed along with lead oxide when Lead Nitrate is heated? (AS1)
13. How do you appreciate the role of toothpaste in preventing the tooth decay? (AS6)
14. How can you support that Silicon is a metalloid?

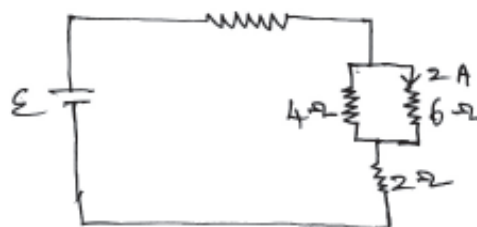
Section - III

$4 \times 4 = 16$

- Note:**
1. Answer any four questions choosing atleast two from each group.
 2. Each question carries four marks.

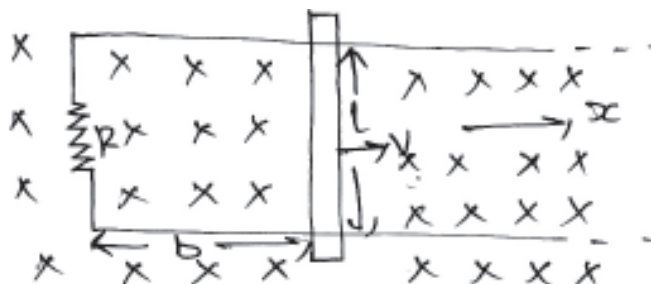
15. Observe the circuit and answer the following questions.

- a) Calculate the current flowing through resistor?
- b) What is the current drawn from the battery?
- c) What is the emf of the battery?



16. Suresh can see the objects clearly which are beyond 3m. So he consulted the doctor and the doctor suggested him some lens.
- a) What type of eye defect he has?
 - b) What kind of lens, doctor suggested him to overcome the eye defect?
 - c) What is the focal length of the lens?

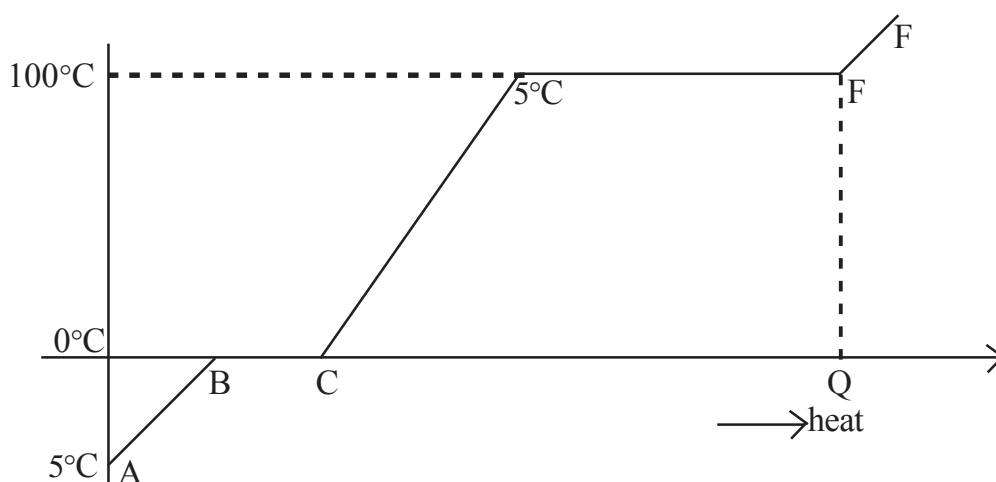
17.



Uniform magnetic field 'B' is acting vertically downwards as shown in figure. A circuit of unthreaded wire with resistance R is kept in the magnetic field. A conductor of length l is placed on the circuit and is moving in x -direction.

- a) If the conductor is moving in positive x -direction with velocity v , what is the change in flux in one second.
- b) What is magnitude and direction of current in the circuit?
- c) What is the power dissipation in the resistor?

18.



The graph given above shows that an ice of 1kg. at -5°C is heated till it vaporises completely.

- What is the state of ice at C?
- What does the part DE in the graph represent? explain?
- What is the value of Q (heat energy) at E shown in graph?

Group - B

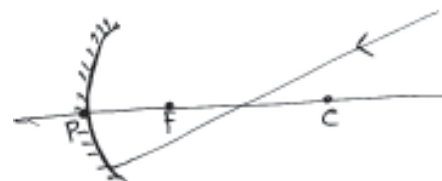
- What are the rules to be followed while filling the electrons in atoms which contains more than one electron? How do you fill the electrons in degenerate orbitals, explain? (AS1)
- Guess the reasons why Ionic compound have more melting and Boiling points when compared to covalent compounds?
- Explain a chemical reaction to show the difference between Ethyl alcohol and Acetic Acid? (AS3)
- Sudheer has observed change of colour in pieces of apple after cutting and also rusting of iron for the iron gate at his home. What could be the reason for all these? Explain the same type of situations in our daily life? (AS6)

Section - IV

$1 \times 5 = 5$

- Note:**
- Answer any one question of the following questions.
 - Each question carries five marks.

- As shown in figure, light ray incident on concave mirror. Using ray rules, construct reflected ray for a given incident ray (Don't use normal). Complete the diagram and explain the steps for getting the reflected ray.



- We know the ratio of Hydrogen and oxygen in water is 2:1, what type experimental arrangement you prefer in order to prove the above fact? Explain with diagram?

General Science Paper - I
Sub: Physical Sciences
(English Version)

Time: 2½ hours

Max Marks:50

Part-B

5 × 2 = 10

Attach Part- B questions paper to the main answer book of part-A

Time: 30 minutes

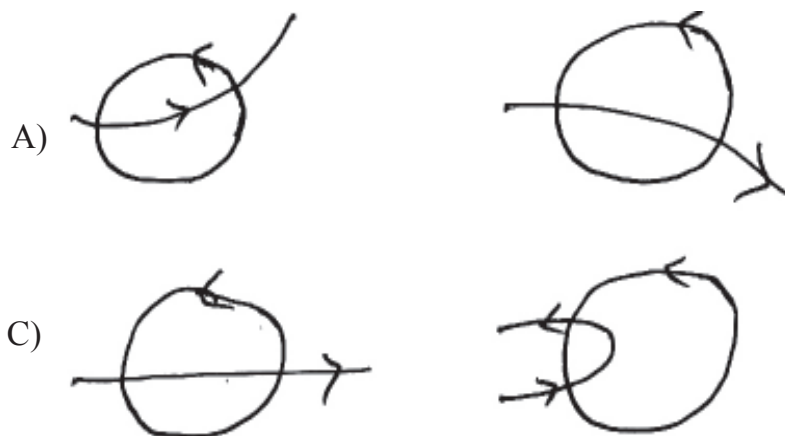
Marks:15

Instructions:

1. Answer all the questions.
2. Each question carries ½ marks.
3. Answers are to be written in the question paper only.
4. Marks will not be awarded in case of any over writing and rewriting or erased answers.

I Write the capital letter showing the correct answer for the following questions in the brackets provided against them.

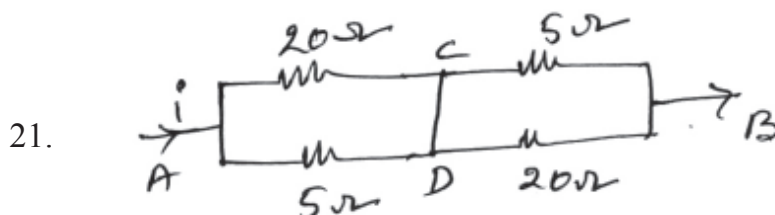
1. 10g of ice at 0°C is mixed with 10g of water at 60°C the resultant temperature of the mixture is (consider the heat transfer between these two systems only) ()
A) -20°C B) -10°C C) 0°C D) 20°C
2. An object is kept at the distance of 10 cm from the mirror. If the object is moved 6cm towards the mirror then the difference in the distances of object and image in the two cases is ()
A) 8cm B) 4cm C) 10cm D) 16cm
3. Which of the following is not true for a biconvex lens ()
A) The focal length of biconvex lens is always positive
B) The focal length of biconvex lens depends on material of the lens used and the medium in which it is kept.
C) Biconvex lens can form both virtual and real images for real objects.
D) It is used to correct hypermetropia
4. An real object is kept at 20 cm from the convex lens and its real image is found at 20cm only. What is the focal length of the lens. ()
A) 20cm B) 10cm C) 5cm D) 15cm
5. In an experiment Brahmanandam took 9cm thickness of glass slab, he calculated the vertical slab as 1cm. What is the refractive index of glass slab ()
A) $\frac{9}{8}$ B) $\frac{8}{9}$ C) $\frac{4}{3}$ D) $\frac{9}{7}$



11. $\text{CuSO}_4 + \text{Fe} \rightarrow \text{FeSO}_4 + \text{Cu}$, equation indicates ()
 A) displacement B) decomposition
 C) combination D) Double displacement
12. NaHCO_3 means ()
 A) Baking Soda B) Washing Soda
 C) Di Sodium Hydrogen Carbonate D) All the above
13. Magnetic quantum number values of 3d orbital ()
 A) -1, 0, +1 B) -2, -1, 0, +1, +2 C) 0 D) -3, -2, -1, 0, +1, +2+3
14. Element with atomic number '15' belongs to ____ block in periodic table ()
 A) S-block B) P-block C) d-block D) f-block
15. Nature of substance applied on skin when we stung honey bee ____ ()
 A) Strong acid B) Strong base C) Weak acid D) Weak base
16. Which method is useful to remove impurities from Zinc Blende ____ ()
 A) Hand Picking B) Wsshing C) Froth floatation D) Magnetic Separation
17. Which among the following is an ore of sulphide ____ ()
 A) Carnalite B) Horn Silver C) Cinnabar D) Magnesite
18. During poting process while using green wood the released reducing gases prevent the metal from ____ ()
 A) Reduction B) Oxidation C) neutralisation D) liquation
19. $\begin{array}{c} \text{CH}_2 - \text{CH} - \text{CHO} \\ | \quad | \\ \text{Cl} \quad \text{Cl} \end{array}$, IUPAC Name of the compound is
 A) Cyclo butane B) 2,3 - Di chloro propanal
 C) 3, 2 Di chloro propanal D) 2 Chloro butanadehyde
20. Atomic weight of Beryllium is 9. Then equivalent weights ()
 A) 13.5 B) 9 C) 4.5 D) 2


Fill in the blanks with suitable answers each question carries $\frac{1}{2}$ marks

$10 \times \frac{1}{2} = 5$ marks



The potential difference between C and D _____

22. The cause of RAINBOW is _____

23.  A biconvex lens of total length f is cut vertically as shown in the figure the focal length of each part in _____

24. A room temperature is 27°C . Its value in kelvin scale is _____

25. Cones is a Eye recognise _____

Section - III

Match the Following

- | | | |
|---|-----|-------------------------------|
| 26. CaOCl_2 | () | a) Hydrated salt |
| 27. $\text{CuSO}_4 \cdot 5\text{H}_2\text{O}$ | () | b) first synthesized compound |
| 28. C_6H_{10} | () | c) Rusting |
| 29. Fe_2O_3 | () | d) Bleaching power |
| 30. NH_2CONH_2 | () | e) Alkyne |
| | | f) Alkene |
| | | g) De hydrated salt. |

General Science Paper - I
Sub: Physical Sciences
(Telugu Version)
Parts A & B

Time: 2½ hours

Max Marks:50

Instructions:

1. Answer the questions under part - A on a separte answer book.
2. Write the answer to the questions under part-B on the question paper iteself and attach it to the answer book of part-A

Time: 2 hours

Max Marks:35

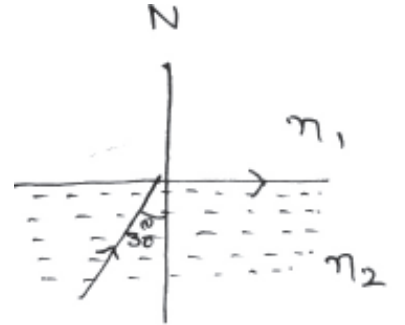
Part-A
Section - I

5 × 2 = 10

- సూచనలు: 1. ప్రతి గ్రూపు నుండి రెండింటికి తక్కువ లేకుండా ఏవైనా ఐదు ప్రశ్నలకు సమాధానములు వ్రాయుము.
2. ప్రతి ప్రశ్నకు రెండు మార్కులు

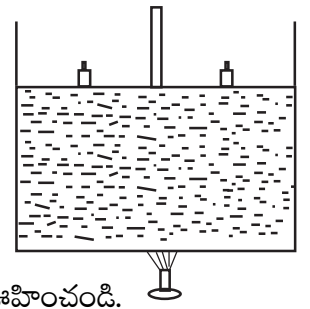
Group - A

1. ప్రక్క పటమును గమనించి ఈ కింది ప్రశ్నలకు జవాబులిమ్ము.
 - a) సాంద్రతర యానకంలో వక్రీభవన గుణకం ఎంత?
 - b) విరళ యానకం దృష్ట్యా సాంద్రతర యానకంలో వక్రీభవన గుణకమును కనుగొనుము

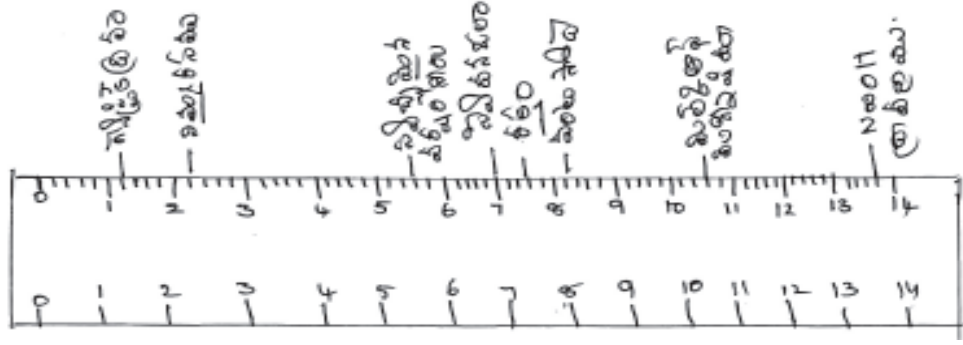


2. “పాలిష్ చేసినటువంటి బూటు మెరుస్తూ ఉంటుంది. కాని పాలిష్ చేయనటువంటి బూటు మెరవదు. కారణములు తెలుపుము.
3. ఒక సమ అయస్కాంత క్షేత్రంలోనికి ‘v’ వేగంతో మరియు అయస్కాంత క్షేత్రం ‘B’ కు లంబదిశలో ఒక ఎలక్ట్రాన్ మరియు ఒక న్యూట్రాన్లు చలిస్తూ ఉంటే
 - a) ఏ కణము అపవర్తనము చెందుతుంది? ఎందుకు?
 - b) అపవర్తనము చెందిన కణము యొక్క మార్గము ఏమిటి?

4. ఒక స్థూపాకార పాత్రలో కొంత నీటిని తీసుకొని నీటి ఉపరితలంపై ఒక ముసలకమును అమర్చి, దానిపై బరువులు ఉంచబడినవి. ఈ పాత్రను స్పిరిట్‌లాంప్‌తో వేడి చేస్తున్నాము.
 - a) ఎప్పుడు బాష్పీభవనము జరుగుతుంది?
 - b) ముసలకముపై బరువులను పెంచినపుడు బాష్పీభవనము ఏమౌతుందో ఊహించండి.



5.



పైన ఇవ్వబడిన pH స్కేలును గమనించి, క్రింది ప్రశ్నలకు జవాబులిమ్ము

- (i) క్షార స్వభావము కలిగిన మానవ శరీర ద్రవం ఏది?
 - (ii) నిమ్మరసము అనేది బలమైన ఆమ్లమా లేక బలహీనమైన ఆమ్లమా?
 - (iii) పైన ఇవ్వబడిన ద్రవములలో ఏవి బలమైన క్షార స్వభావము కలిగి ఉంటాయి.
 - (iv) స్వేదన జలము యొక్క pH విలువ ఎంత?
6. పొటాషియం పరమాణువులో చివరి కక్ష్యలో ప్రవేశించిన ఎలక్ట్రాన్ యొక్క నాలుగు క్వాంటం సంఖ్యల విలువలను వ్రాయండి?
7. 'X' అనే మూలకము 3వ పీరియడ్ మరియు 13వ గ్రూప్ కు చెందినది. క్రింది ప్రశ్నలకు జవాబులిమ్ము?
- (i) 'X' మూలకముయొక్క ఎలక్ట్రాన్ విన్యాసమును వ్రాయండి.
 - (ii) 'X' యొక్క వేలన్సీ ఎంత?
8. వైద్యరంగంలో బక్ మినిస్టర్ పుల్లరిన్ యొక్క పాత్రను ఎలా అభినందిస్తావు?

Section - II

4 × 1 = 4

- సూచనలు: 1. ఈ క్రింది వానిలో ఏవేని నాలుగు ప్రశ్నలకు సమాధానములు వ్రాయుము.
2. ప్రతి ప్రశ్నకు ఒక మార్కు.

9. ఏకాంబరమ్ అనే వృక్తి దర్పణములను ఉపయోగించి ఆవర్ధనము పై ప్రయోగములు చేసినాడు. ఆ ప్రయోగాలలో 1 కంటే ఎక్కువ ఉండే ఆవర్ధనముల సందర్భములను గుర్తించినాడు.
 - a) ఈ ప్రయోగము అతను ఉపయోగించిన దర్పణములు ఏ రకమునకు చెందినవి?
 - b) పై సందర్భంలో వస్తువు యొక్క స్థానము ఎట్లా ఉంటుంది?
10. ఎలక్ట్రిక్ బల్బులో టంగ్స్టన్ ఫిలమెంట్ ను వాడుటకు గల కారణము ఏమి?
11. మనము నీటిలో ఉన్నప్పుడు వస్తువులను స్పష్టంగా చూడటానికి కళ్ళద్దాలను వాడతారు? ఎందుకు?
12. లెడ్ వైట్రేట్ ను వేడిచేసినప్పుడు లెడ్ ఆక్సైడ్ తోపాటు ఏర్పడే సమ్మేళనములు ఏవి?

13. దంతక్షయాన్ని నివారించుటకోసం టూత్ పేస్ట్ యొక్క పాత్రను ఏ విధంగా అభినందిస్తావు?
14. సిలికాన్ ఒక అర్ధలోహం, దీనిని నీవు ఎలా సమర్థిస్తావు?

Section - III

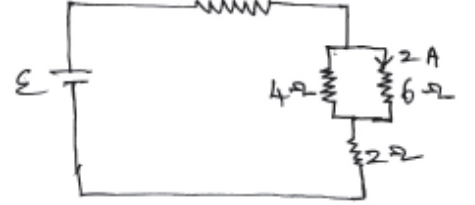
4 × 4 = 16

- సూచనలు: 1. ప్రతి గ్రూపు నుండి రెండేసి ప్రశ్నలకు తగ్గకుండా నాలుగు ప్రశ్నలకు సమాధానాలు వ్రాయండి.
2. ప్రతి ప్రశ్నకు నాలుగు మార్కులు.

15.

పై వలయమును గమనించి క్రింది ప్రశ్నలకు జవాబులిమ్ము

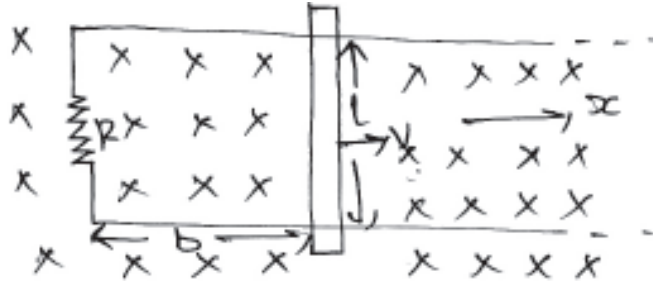
- a) 4ను ల నిరోధములో ప్రవహించు కరెంటును లెక్కించుము.
b) బ్యాటరీలో ఉండే కరెంటు విలువ ఎంత?
c) బ్యాటరీ యొక్క emf విలువ ఎంత?



16. సురేష్ 3 మీ. కంటే ఎక్కువ దూరంలో ఉండే వస్తువులను స్పష్టంగా మాత్రమే చూడగలడు. ఇతడు డాక్టరును సంప్రదించగా డాక్టర్ సురేష్ కు కొన్ని రకాల కటకములను వాడమని సలహానిచ్చాడు.

- a) సురేష్ ఏరకమైన దృష్టి లోపమును కలిగి ఉన్నాడు?
b) దృష్టిలోపమును నివారించుటకు డాక్టర్ అతనికి ఏ రకమైన కటకములను వాడమని సలహా ఇచ్చెను.
c) ఆ కటకముల నాభ్యంతరము ఎంత ఉండును?

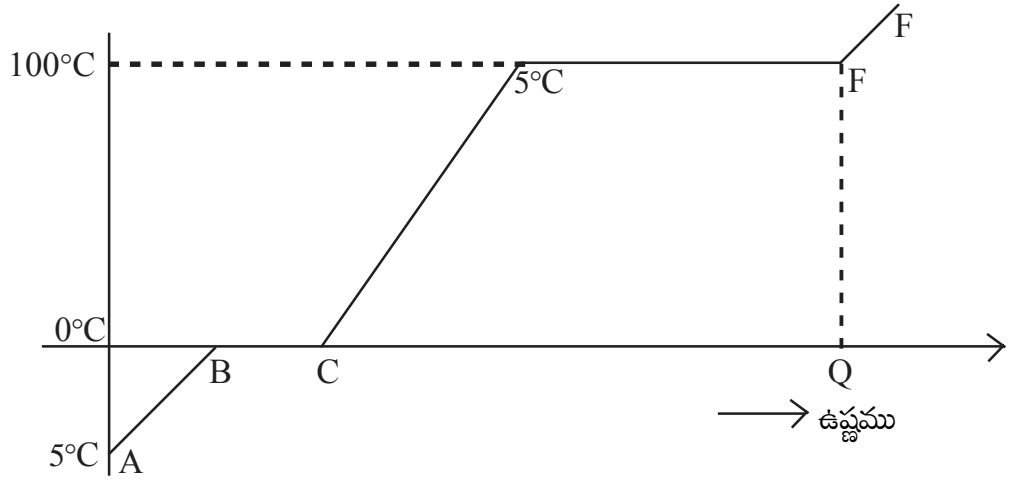
17.



పటంలో చూపిన విధంగా లంబంగా దిగువకు పనిచేసే సమరీతి అయస్కాంత క్షేత్రం 'B' పని చేస్తుంది. దీనిలో నిరోధం 'R' తో ఒక వలయాన్ని ఏర్పాటుచేసి, దానిపై l పొడవు గల వాహకాన్ని ఉంచారు. దీనిని x -దిశలో ఎటువైపు అయిన కదలవచ్చు..

- a) v , స్థిర వడితో కుడివైపు x -దిశలో కదిలిస్తే, వాహక కొనల మధ్య విద్యుచ్ఛాలకబలం ఎంత?
b) విద్యుత్ ప్రవాహ దిశను తెల్పి, దానికి గల కారణాన్ని తెల్పండి?
c) ఆ విద్యుత్ విలువ ఎంత?

18.



పై గ్రాఫ్ను గమనించండి.

- మంచు, నీరుగా మారే భాగం ఏది?
- గ్రాఫ్లో చూపిన DE భాగం ఏమై ఉంటుంది? వివరించుము.
- గ్రాఫ్లో చూపిన E వద్ద గల ఉష్ణశక్తి Q విలువ ఎంత ఉండును?

Group - B

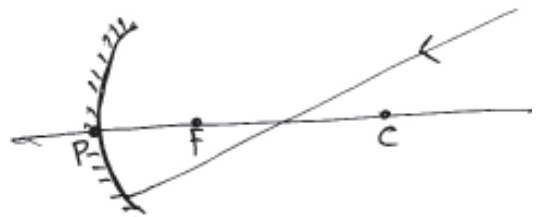
- ఒకటి కంటే ఎక్కువ ఎలక్ట్రాన్లు గల పరమాణువులలో ఎలక్ట్రాన్ల అమరికను వివరించుటకు ఉపకరించే నియమాలేవి? వాటితో సమశక్తి ఆర్బిటాళ్ళలో ఎలక్ట్రాన్ల అమరిక ఏ నియమం ఆధారంగా జరుగుతుందో సోదాహరణంగా వివరించండి?
- అయానిక సమ్మేళనాలు, సంయోజనీయ సమ్మేళనాలతో పోల్చినపుడు అధిక ద్రవీభవన మరియు బాష్పీభవన స్థానాలు కలిగి ఉండుటకు కారణాలను ఊహించండి.
- ఇథైల్ ఆల్కహాల్, ఎసిటిక్ ఆమ్లాల మధ్య బేధాన్ని చూపించే ఒక రసాయన చర్యను వివరించండి?
- నిజ జీవితంలో చేతితో ఏరివేయడం, నీటితో కడగడం వంటి ప్రక్రియలు ఏ సందర్భాలలో వాడుతారు? లోహాన్ని సాంద్రీకరించడంలో వీటిని ఎలా పోలుస్తారు?

Section - IV

1 × 5 = 5

- సూచనలు: 1. ఈ క్రింది వానిలో ఏదేని ఒక దానికి సమాధానం వ్రాయండి.
2. ప్రతి ప్రశ్నకు ఐదు మార్కులు.

- ప్రక్క పటాన్ని గమనించండి. కిరణ చిత్ర నియమాల ఆధారంగా పరావర్తన కిరణాన్ని ఎలాగీస్తారో పట సహాయంతో వివరించండి.



- నీటిలో హైడ్రోజన్ మరియు ఆక్సిజన్ల నిష్పత్తి 2:1 అని మనకు తెలుసు. ఈ విషయాన్ని నిరూపించడానికి నీవు ఎటువంటి ప్రయోగము చేస్తావో పట సహాయమున వివరించండి.

General Science Paper - I
Sub: Physical Sciences
(Telugu Version)
Part A & B

Time: 2½ hours

Max Marks:50

Part-B

5 × 2 = 10

Attach Part- B questions paper to the main answer book of part-A

Time: 30 minutes

Marks:15

Instructions:

1. అన్ని ప్రశ్నలకు జవాబులు రాయండి.
2. ప్రతి ప్రశ్నకు ½ మార్కు.
3. సమాధానములను ప్రశ్నాపత్రములోనే వ్రాయవలెను.
4. దిద్దబడిన మరియు చెరిపివేయబడిన సమాధానములకు మార్కులు వేయబడవు.

I ఈ క్రింది ప్రశ్నలకు సరియైన సమాధానములు ఎన్నుకొని దానిని తెలిపే అక్షరమును (A, B, C, D) బ్రాకెట్లలో పెద్ద అక్షరములతో (CAPITAL LETTERS) వ్రాయండి.

1. 0°C వద్దగల 10 గ్రాముల మంచును 10 గ్రాముల నీరు 60°C కు కలుపగా ఫలిత ఉష్ణోగ్రత ఎంత?
(ఈ రెండు వ్యవస్థల మధ్య మాత్రమే ఉష్ణమార్పిడి జరిగినదని భావించవలెను) ()
A) -20°C B) -10°C C) 0°C D) 20°C
2. ఒక వస్తువు సమతల దర్పణము నుండి 10 సెం.మీ. దూరములో ఉంచబడినది. దానిని అచ్చటనుండి దర్పణము వైపుకు 6 సెం.మీ. కదిలించబడినది. ఈ రెండు సందర్భాలలోని వస్తుప్రతిబింబముల మధ్య బేద దూరము. ()
A) 8cm B) 4cm C) 10cm D) 16cm
3. ద్వికుంభాకార కటకములలో ఈ క్రింది వానిలో నిజము కానిది ()
A) ద్వికుంభాకార కటకము నాభ్యంతరము ఎల్లప్పుడు ధనాత్మకం
B) ద్వికుంభాకార కటకము యొక్క నాభ్యంతరము కటక తయారీకి వాడిన పదార్థము మీద, దానిని ఉంచబడిన యానకము మీద ఆధారపడుతుంది.
C) నిజవస్తువుతో ద్వికుంభాకార కటకము నిజ, మిథ్యా ప్రతిబింబములను ఏర్పరచును.
D) దీర్ఘ దృష్టి (Hypermetropia) నివారణకు ద్వికుంభాకార కటకమును వాడుతారు.

4. కుంభాకార కటకము నుండి 20 సెం.మీ. దూరములో నిజవస్తువును ఉంచితే నిజప్రతిబింబము కూడా 20 సెం.మీ. వద్ద ఏర్పడింది. ఈ కుంభాకార కటక నాభ్యంతరము ఎంత? ()

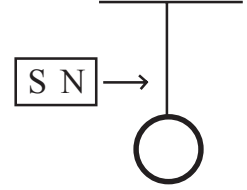
- A) 20cm B) 10cm C) 5cm D) 15cm

5. 9 సెం.మీ. మందముగల గాజుపలకను ఉపయోగించి బ్రహ్మానందము ప్రయోగము చేయునప్పుడు అతనికి నిలువు విస్తాపనం 1 సెం.మీ. గా గమనించాడు. గాజుపలక వక్రీభవన గుణకము. ()

- A) $\frac{9}{8}$ B) $\frac{8}{9}$ C) $\frac{4}{3}$ D) $\frac{9}{7}$

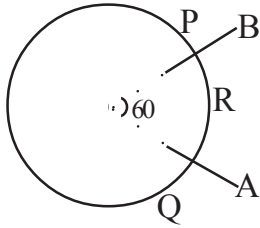
6. పటములో చూపిన విధంగా ఒక తీగ చుట్ట సీలింగుకు వ్రేలాడదీయబడినది. ()

ఒక దండయస్కాంతమును తీగచుట్ట వైపుకు కదల్చినారు. ఈ క్రింది విషయములలో ఏది నిజము



- A) దండయస్కాంత పరంగా తీగచుట్టలో అపసవ్య దిశలో విద్యుత్ ప్రవహిస్తుంది.
 B) తీగచుట్టలోని క్షేత్రం దండయస్కాంత క్షేత్రమునకు వ్యతిరేఖము
 C) తీగచుట్టలో ఏర్పడిన ప్రేరిత విద్యుత్ ప్రవాహము దండయస్కాంత వేగము మీద ఆధారపడుతుంది.
 D) తీగచుట్టలోని విద్యుత్చాలక బలము తీగచుట్ట నిరోధము మీద ఆధారపడి ఉంటుంది.

7.



P, Q, ల మధ్య నిరోధము R అయితే A, B ల మధ్య ఫలిత నిరోధము ఎంత? ()

- A) $\frac{5R}{6}$ B) $\frac{6R}{5}$ C) 6R D) $\frac{7R}{6}$

8. వక్రీభవనము దృష్ట్యా ఈ క్రింది వానిలో నిజము కానిది ()

- A) వక్రీభవనము జరుగునప్పుడు కాంతి పొనాపున్యము మారదు.
 B) కాంతి సాంద్రతర యానకము నుండి విరళయానకము లోనికి ప్రయాణించునప్పుడు వక్రీభవన కోణము పతన కోణము కన్నా ఎక్కువ.
 C) వక్రీభవనము జరుగునప్పుడు యానకములు వేరుచేయు తలము వద్ద కాంతి వంగి ప్రయాణం చేస్తుంది.
 D) చెరువులోని పైనుండి చేపను చూసినప్పుడు దాని నిజదూరము కంటే తక్కువ దూరములో కన్పిస్తుంది.

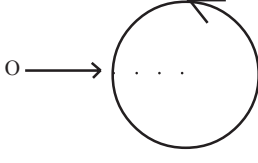
9. 60°C వద్ద గల ఇస్త్రీ పెట్టెను 30°C వద్ద గల H₂ వాయువులో ఉంచబడినది. ఈ క్రింది వానిలో నిజము కానిది ఏది? ()

- A) ఇస్త్రీపెట్టి నుండి వాయువు వైపుకు ఉష్ణము సరఫరా అవుతుంది.
 B) ఇస్త్రీపెట్టె నష్టపోయే ఉష్ణము ఇస్త్రీపెట్టె విశిష్టోష్ణము మరియు H₂ వాయువు, మరియు ఇస్త్రీపెట్టె మరియు H₂ వాయువు, మరియు ఇస్త్రీపెట్టె మరియు H₂ వాయువు ద్రవ్యరాశుల మీద ఆధారపడును.

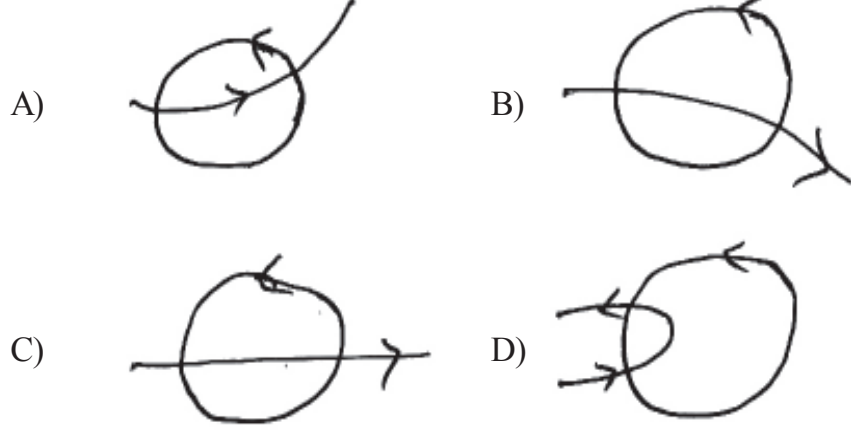
C) ఈ వ్యవస్థ ఎప్పటికప్పుటికి ఉష్ణ సమతాస్థితికి రాదు

D) ఇస్ట్రీపెట్టె (ఇనుము) లోని పరమాణువుల, సరాసరి గతిజశక్తి H_2 వాయువు పరమాణుల సరాసరి గతిశక్తి సమానము అయినప్పుడు వ్యవస్థ ఉష్ణ సమతాస్థితికి వచ్చును.

10.



సోలినాయిడ్ అక్షమునకు లంబంగా పటములో చూపిన విధంగా ఎలక్ట్రిక్ ను ప్రతిక్షేపించబడినది. సోలినాయిడ్ లో విద్యుత్ అపసవ్య దిశలో ప్రవహిస్తుందని సోలినాయిడ్ లో ఏకరీతి అయస్కాంత క్షేత్రము ఉన్నదని భావించబడితే ఈ క్రింది వానిలో ఏది నిజము? ()



11. $CuSO_4 + Fe \rightarrow FeSO_4 + Cu$, అనే ఈ సమీకరణం ఈరకం చర్యను సూచిస్తుంది. ()

A) స్థానభ్రంశం B) వియోగం C) సంయోగం D) ద్వివియోగం

12. $NaHCO_3$ అనగా ()

A) బేకింగ్ సోడా B) వాషింగ్ సోడా C) సోడియం హైడ్రోజన్ కార్బోనేట్ D) అన్నీ

13. 3d ఆర్బిటాల్ యొక్క అయస్కాంత క్యాంటం విలువలు ()

A) -1, 0, +1 B) -2, -1, 0, +1, +2 C) 0 D) -3, -2, -1, 0, +1, +2+3

14. పరమాణు సంఖ్య '15' గా గల మూలకం ఆవర్తన పట్టికలో ఏ బ్లాక్ కు చెందును. ()

A) S- బ్లాక్ B) P- బ్లాక్ C) d- బ్లాక్ D) f- బ్లాక్

15. తేనెటీగ కుట్టినప్పుడు పూతగా రాసే పదార్థ స్వభావం ____ ()

A) బలమైన ఆమ్లం B) బలమైన క్షారం C) బలహీనమైన ఆమ్లం D) బలహీనమైన క్షారం

16. జింక్ బ్లెండ్ నుండి ఖనిజ మాలిన్యాన్ని తొలగించుటకు అనువైన పద్ధతి ____ ()

A) చేతితో ఏరివేయుట B) నీటితో కడగడం
C) ప్లవన ప్రక్రియ D) అయస్కాంత వేర్పాటు పద్ధతి

17. ఈ క్రింది వానిలో సల్ఫైడ్ ధాతువు ____ ()

A) కార్బులైట్ B) హార్న్ సిల్వర్ C) సిన్నబార్ D) మాగ్నెటైట్

18. పోలింగ్ ప్రక్రియలో పచ్చికర్రలను ఉపయోగించినపుడు కర్రలనుండి వెలువడిన క్షయకరణ వాయువులు లోహాన్ని ఏ ప్రక్రియకు గురికాకుండా కాపాడుతాయి _____ ()

- A) క్షయకరణం B) ఆక్సీకరణం C) తటస్థీకరణం D) స్వేదనం



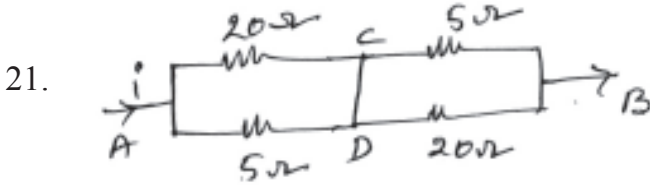
19. $\begin{array}{c} | \quad | \\ Cl \quad Cl \end{array}$ సమ్మేళనం యొక్క IUPAC పేరు

- A) సైక్లోబ్యూటీన్ B) 2,3 - డై క్లోరో ప్రొపనాల్
C) 3, 2 - డై క్లోరో ప్రొపనాల్ D) 2 - క్లోరో బ్యూటనాల్డిహైడ్

20. బెరీలియం పరమాణుభారం 9. అయిన బెరీలియం తుల్యాంక భారము ()

- A) 13.5 B) 9 C) 4.5 D) 2

ఈ క్రింది ఖాళీలను సరియైన పదాలతో పూరించండి. ప్రతి ప్రశ్నకు $\frac{1}{2}$ మార్కు $10 \times \frac{1}{2} = 5$ marks



పై వలయంలో C, D బిందువుల మధ్య పొటన్షియల్ భేదము _____

22. కాంతి యొక్క _____ ఇంద్రధన్వు విర్బడుతుంది అని చెప్పవచ్చు.

23. ద్వికుంభాకార కటకము నాభ్యంతరము f . దీనిని ప్రధానాక్షమునకు లంబంగా రెండు సమభాగాలు చేస్తే ఒక్కొక్క భాగము యొక్క నాభ్యంతరము _____

24. గది ఉష్ణోగ్రత $27^\circ C$. అయితే కెల్విన్ మానములో దాని విలువ _____

25. కంటిలోని శంఖువులు _____ గుర్తిస్తాయి.

జతపరచటం

26. $CaOCl_2$ () a) ఆర్థలవణం
27. $CuSO_4 \cdot 5H_2O$ () b) మొట్టమొదటి క్రుత్రిమ సమ్మేళనం
28. C_6H_{10} () c) తుప్పు
29. Fe_2O_3 () d) బ్లీచింగ్ పౌడర్
30. NH_2CONH_2 () e) ఆల్బైన్
f) ఆల్మీన్
g) అనార్థ లవణం

భౌతిక రసాయన శాస్త్రము

10వ తరగతి - మాదిరి ప్రశ్నాపత్రం

గరిష్ట మార్కులు : 50

సమయం: 2.30ని||లు

- సూచనలు :
1. అన్ని ప్రశ్నలకు సమాధానం రాయండి.
 2. మొదట ప్రశ్నాపత్రమును జాగ్రత్తగా చదవండి.
 3. అన్ని సమాధానాలు జవాబుపత్రంలోనే రాయండి.

PART-A : 35 M

I. కింది ప్రశ్నలకు వివరంగా సమాధానాలు రాయండి. (4×4 = 16)

1. కాల్షియం ఆక్సైడ్ కు నీటిని కలిపిన చర్య, జింక్ ముక్కలకు హైడ్రోక్లోరికామ్లం కలిపిన చర్యలలో ఉష్ణం విడుదలైంది. కాబట్టి అవి రెండూ ఒకేరకమైన రసాయన చర్యలని రాము అన్నాడు. అవి రెండూ ఒకేరకమైన రసాయన చర్యలు కావు అని ఈశ్వర్ అభిప్రాయపడ్డాడు. ఏ అంశాన్ని ఆధారంగా చేసుకొని ఈశ్వర్ ఈ అభిప్రాయం తెలిపాడో వివరించండి. పై చర్యలకు సమీకరణాలు రాయండి.

(లేదా)

సాధారణ నీటిని మాత్రమే ఉపయోగించి బట్టలను శుభ్రపరచకుండా మనం బట్టలు ఉతికినప్పుడు డిటర్జెంట్ వాడతాం ఎందుకు? అది బట్టలలోని మురికిని ఎలా తీసివేస్తుంది? వివరించండి.

2. “మూలకాల వర్గీకరణకు సంబంధించి మెండలీఫ్ జరిపిన కృషి ఎన్నడగినది” పై వాక్యంతో మీరు ఏకీభవిస్తారా? లేదా? సరైన కారణాలతో వివరించండి.

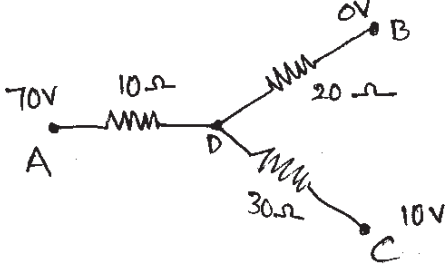
(లేదా)

“నిజజీవితంలో మనం అనేక దహనచర్యలు, ఆక్సీకరణ చర్యలు చూస్తుంటాం. వాటిలో ప్రతీ దహనచర్య ఆక్సీకరణ చర్య అవుతుంది. కానీ ప్రతీ ఆక్సీకరణ చర్య దహనచర్య కాదు.” ఈ వాక్యంతో మీరు ఏకీభవిస్తారా? లేదా? సరైన కారణాలతో వివరించండి.

3. రెండు వక్రతా వ్యాసార్థాలు సమానంగా (R) గల కుంభాకార కటకం యొక్క ఒక వక్రతాకేంద్రం వద్ద ఒక వస్తువును ఉంచాం. కటక పదార్థ వక్రీభవన గుణకం n. ఆ కటకం గాలిలో ఉంటే కింది విషయాలను వివరించండి.

- a) కటక నాభ్యాంతరం ఎంత ?
- b) ప్రతిబింబదూరం ఎంత ?
- c) ప్రతిబింబ స్వభావాన్ని చర్చించండి.

(లేదా)



పటాన్ని గమనించండి. A, B, C ల వద్ద పొటెన్షియల్ విలువలు 70V, 0V, 10V.

- D వద్ద పొటెన్షియల్ ఎంత ?
- AD, DB, DC లలో ప్రవహించే విద్యుత్ ప్రవాహాల నిష్పత్తిని కనుగొనండి.

- మీ దగ్గర ఉన్న పుటాకార దర్పణాలపై వాటి నాభ్యాంతరాల విలువలు రాయబడిలేవు. ప్రయోగపూర్వకంగా మీ దర్పణాల నాభ్యాంతరాలను కనుగొనాలంటే మీకు ఏ ఏ పరికరాలు కావాలి? ప్రయోగాన్ని ఎలా నిర్వహిస్తారు?

(లేదా)

వంటపాత్రపై మూతగా ఉపయోగించేందుకు ఎక్కువ విశిష్టోష్ణం గల లోహంతో మూతను తయారుచేయాలని రమ భావించింది. దానికొరకు అల్యూమినియం, రాగి లోహాల విశిష్టోష్ణాలను ప్రయోగపూర్వకంగా కనుగొనాలంటే ఏ ఏ పరికరాలు కావాలి? ఆ ప్రయోగాన్ని ఎలా నిర్వహించాలి ?

II. కింది ప్రశ్నలకు క్లుప్తంగా జవాబులు రాయండి. (6×2 = 12)

- ఒక లోహపు స్ప్రింగ్‌ను ఒక ఉష్ణబంధక ఆధారానికి వేలాడదీశారు. నిలువుగా వేలాడే ఆ స్ప్రింగ్ రెండు కొనలను బ్యాటరీ మరియు స్విచ్‌లతో వలయంలో కలిపి, స్విచ్‌ను “ఆన్” చేస్తే ఏం జరుగుతుందో ఊహించండి.
- A అనే పదార్థం నీలిలిట్రమ్ కాగితాన్ని ఎరుపురంగులోకి మార్చింది. B-అనే పదార్థం ఎరుపులిట్రమ్‌ను నీలిరంగులోకి మార్చింది. A, B ల మధ్య రసాయన చర్యలో ఏ ఏ పదార్థాలు ఏర్పడవచ్చో ఊహించండి. కారణాన్ని తెల్పుండి.
- “ఒక తీగ చుట్టలో జనించే ప్రేరిత విద్యుత్‌చాలక బలం ఆ తీగచుట్ట నిరోధంపై ఆధారపడదు” అనే విషయాన్ని ఒక పుస్తకంలో రాము చదివాడు. ఈ సమాచారం సరైనదా కాదా నీవెలా విశ్లేషిస్తావు ?
- a) $\text{CH}_3 - \text{CH}_2 - \text{CH}_2 - \text{CH}_3$ b) $\text{CH}_3 - \text{CH} - \text{CH}_3$



పైన తెలిపిన రెండు పదార్థాలలోని కార్బన్, హైడ్రోజన్ల సంఖ్య సమానమని మనం గుర్తించవచ్చు. ఇచ్చిన అణు ఆకృతులనుబట్టి నీవేమి అవగాహన చేసుకోగలవో వివరించండి.

- ఒకే పొడవు, ఒకే మధ్యచ్ఛేద వైశాల్యం కలిగియున్న వివిధ పదార్థాల నిరోధాలను పోల్చేందుకు వలయాన్ని ఎలా ఏర్పాటుచేయాలో పటంతో చూపించండి.

10. ఒక పరమాణువులోని P ఆర్బిటాళ్ళు, ఇతర పరమాణువులోని S-ఆర్బిటాళ్ళ మధ్య ఏర్పడే సంయోజనీయ బంధాలను కలిగియున్న అణువును పటసహాయంతో చూపండి.

III. కింది ప్రశ్నలకు ఒకటి లేదా రెండు వాక్యాలలో సమాధానాలు రాయండి. (7×1 = 7)

11. 4 కిలోల నీరు 100° C ఉష్ణోగ్రత వద్ద ఉన్నది. ఆ నీరు పూర్తిగా భాష్పంగా మారడానికి ఎంత ఉష్ణశక్తి అవసరం ? (నీటి భాష్పీభవన గుప్తోష్ఠం 540 కెలోరీలు / గ్రాం.)

12. ఏ సందర్భంలో పతనకోణం, వక్రీభవనకోణం సమానంగా ఉంటాయి ?

13. Zn ముక్క HCl తో, NaOH తో విడివిడిగా చర్యలో పాల్గొనే ప్రయోగాలు మీరు నిర్వహించారుకదా! ఆ ప్రయోగాలలో మీరు గమనించిన సామాన్య (common) అంశం ఏమిటి?

14. మంచు ద్రవీభవన ప్రక్రియను పరిశీలించే ప్రయోగంతో, మంచు కరగడం ప్రారంభమై అది పూర్తిగా నీరుగా మారేవరకు మీరు పరిశీలించిన ప్రధాన విషయం ఏమిటి ?

15. కింది పరమాణువుల ఎలక్ట్రాన్ విన్యాసాల ఆధారంగా, అయాన్‌ను ఏర్పరచే పరమాణువును ఎన్నుకోండి. కారణం తెల్పండి.

A - 1S² 2S² 2P⁶ 3S² 3P⁶

B - 1S² 2S² 2P⁶ 3S² 3P⁵

16. కింది పట్టికను గమనించండి.

పదార్థం	మంచు	నీరు	బెంజిన్	కార్బన్‌డైసల్ఫైడ్
వక్రీభవన గుణకం	1.31	1.33	1.5	1.63

పై విలువల ఆధారంగా ఏపదార్థంలో కాంతివేగం తక్కువగా ఉంటుందో తెలపండి.

17. కింది పట్టికను పరిశీలించండి.

మూలక పరమాణువు	సోడియం	అల్యూమినియం	పొటాషియం
పరమాణు సంఖ్య	11	13	19

పై సమాచారం ఆధారంగా వాటి పరమాణు పరిమాణాల గురించి నీవేమి చెప్పగలవు ?

PART-B : 15 M

IV. సరైన సమాధానాన్ని గుర్తించండి. (20 × $\frac{1}{2}$ = 10)

18. రెండు వేర్వేరు పాత్రలలో ఒకే ఉష్ణోగ్రత వద్ద ఉన్న రెండు పదార్థాల విషయంలో కింది వాటిలో సరియైనది.
- అవి ఉష్ణ సమతాస్థితిలో ఉన్నాయి.
 - వాటిలోని ఉష్ణరాశి విలువ సమానం.
 - వాటిలోని ఉష్ణరాశుల విలువలు వాటి ద్రవ్యరాశులు, విశిష్టోష్ణాల ఆధారంగా మాత్రమే చెప్పగలం.
 - ఆ రెండుపాత్రలలో 100 ml నీరు కలిపితే, కొంత సమయం తర్వాత తిరిగి ఆ రెండు మిశ్రమాల ఉష్ణోగ్రత సమానంగా ఉంటుంది.
19. ఒక నిరోధాన్ని బ్యాటరీకి కలవడం వల్ల ఆ నిరోధం ఉష్ణం పెరుగుతుంది. కింది వాటిలో ఏ విలువ మారకుండా ఉంటుంది ?
- ఎలక్ట్రాన్ల డ్రిఫ్ట్ వేగం
 - విశిష్ట నిరోధం
 - నిరోధం
 - ఎలక్ట్రానుల సాంద్రత
20. ఒక సాధారణ విద్యుత్ బల్బ్ నిరోధం విలువ 240 Ω అని భావిద్దాం. ఆ బల్బ్ 30 ని॥ కాలం వెలిగాక దాని నిరోధం కిందివిధంగా ఉండవచ్చు.
- 240
 - < 240
 - > 240
 - పైన ఇచ్చిన సమాచారం సమగ్రంగా లేదు.
21. తూర్పుదిశగా ప్రయాణిస్తున్న ధనావేశం ఒక అయస్కాంతక్షేత్ర ప్రభావం వల్ల ఉత్తరదిశలోకి విచలనం చెందింది. దీనినిబట్టి అయస్కాంతక్షేత్ర దిశ
- పశ్చిమం వైపు
 - దక్షిణం వైపు
 - పైవైపు
 - కిందివైపు
22. కింది పదార్థాలలో ఏది ఆలస్యంగా వేడెక్కుతుంది ?
- కిరోసిన్ (విశిష్టోష్ణం 0.5 cal/g. °C)
 - మంచు (విశిష్టోష్ణం 0.5 cal/g. °C)
 - నీరు (విశిష్టోష్ణం 1 cal/g. °C)
 - సముద్రజలం (విశిష్టోష్ణం 0.95 cal/g. °C)
23. కింద ఇవ్వబడిన ద్రవాలలో ఏది ఎసిటికామ్లం ?
- తియ్యని వాసన కలిగియున్న ద్రవం
 - ఘటైన వాసన గల ద్రవం
 - వాసన లేని ద్రవం
 - చెడువాసన గల ద్రవం

24. ఒక మూలక పరమాణువులో 12 ప్రోటానులున్నాయి. ఆ మూలకం నవీన ఆవర్తన పట్టికలో, ఏ పీరియడ్ ఏ గ్రూపులో ఉంటుంది ?

- a) 3వ పీరియడ్, 2వ గ్రూపు b) 3వ పీరియడ్, 3వ గ్రూపు
c) 2వ పీరియడ్ 3వ గ్రూపు d) 2వ పీరియడ్ 2వ గ్రూపు

25. a, b, c, d అనే నలుగురు విద్యార్థులు నీరు, సోడియం బైకార్బోనేట్ నిమ్మరసాల pH విలువలు లెక్కించి అవరోహణ క్రమంలో రాశారు. వారిలో ఎవరు సరిగా గుర్తించారు ?

- a) నీరు > నిమ్మరసం > సోడియంబైకార్బోనేట్
b) నిమ్మరసం > నీరు > సోడియంబైకార్బోనేట్
c) సోడియంబైకార్బోనేట్ > నీరు > నిమ్మరసం
d) నీరు > సోడియంబైకార్బోనేట్ > నిమ్మరసం

26. కింది ఏచర్యలతో క్రియాజన్యంగా ఒక పదార్థం మాత్రమే ఏర్పడుతుంది.

- a) రసాయన సంయోగం b) రసాయన వియోగం
c) రసాయన స్థానభ్రంశం d) రసాయన ద్వంద్వ వియోగం

27. కింది అణువులలో దేనిలో అయానిక బంధం ఉండదు.

- a) NaCl b) HCl c) $MgCl_2$ d) $BaCl_2$

28. పరమాణువులోని ఎలక్ట్రాన్ యొక్క 4 క్వాంటం సంఖ్యలు ఇలా ఉన్నాయి. దాని ఎలక్ట్రాన్ విన్యాసం ?

n	l	m	s
1	0	0	

- (a) $2 S^1$ (b) $2 S^2$ (c) $1 S^1$ (d) $2 S^2$

29. ముగ్గురు విద్యార్థులు నీరు, నిమ్మరసం, సోడియం బైకార్బోనేట్ యొక్క pH లను లెక్కించారు. ఆ pH విలువల అవరోహణము.

- a) నీరు > నిమ్మరసం > సోడియం బైకార్బోనేట్
b) నిమ్మరసం > నీరు > సోడియం బైకార్బోనేట్
c) సోడియం బైకార్బోనేట్ > నీరు > నిమ్మరసం
d) నీరు > సోడియం బైకార్బోనేట్ > నిమ్మరసం

30. మూలకాల ఆవర్తన పట్టికలోని 2వ గ్రూపు, 4వ పీరియడ్ మూలకంలో ఎలక్ట్రాన్ విన్యాసం ఏది?

- a) $1S^2 2S^2 2P^6 3S^2$ b) $1S^2 2S^2 2P^6 3S^2 3P^6 4S^1$
 c) $1S^2 2S^2 2P^6 3S^2 3P^4$ d) $1S^2 2S^2 2P^6 3S^2 3P^6 4S^2$

31. కింది సమూహం ఒక సమజాత శ్రేణిలో వరుస సమ్యేకనాలు. అయిన ఈ శ్రేణికి చెందిన సమ్యేకనా(ల)ను గుర్తించండి.

సమజాత శ్రేణి : $CH_3 OH$
 C_2H_5OH
 C_3H_7OH

- (a) $C_5H_{11}OH$ (b) C_4H_9OH (c) a, b లు రెండూ (d) ఏదీకాదు

32. ఉష్ణ సమతాస్థితికి సంబంధం లేనిది

- a) ఉష్ణ సమతాస్థితి వద్ద వస్తువులు ఉష్ణోగ్రతలు ఒకేలా వుండాలి.
 b) ఉష్ణం ప్రసారం ఉష్ణసమతాస్థితిలో గల వస్తువుల మధ్య ఉండదు.
 c) ఉష్ణ సమతాస్థితిలో వున్న ఎక్కువ ద్రవ్యరాశిగల వస్తువు నుండి తక్కువ ద్రవ్యరాశి గల వస్తువుకు ఉష్ణం ప్రసారమవుతుంది.
 d) అన్ని పదార్థాల్లోగల అణువుల సరాసరి గతిజశక్తి $\frac{R}{2} \frac{V^2}{P}$ సమానంగా ఉంటుంది.

33. ఒక విద్యార్థి ఒక బల్బును తీసుకొని చూసిన దానిపై ఉన్న వోల్టేజి 120 V; 60 W అనే మార్కులు చూసాడు. ఈ విలువలు సరైనవా కావా అని తెలుసుకోవడానికి అతడు తీసుకోవలసిన సరైన చర్య,

- a) ఫార్ములా వాడి నిరోధాన్ని కనుగొనుట
 b) మల్టీమీటరు సహాయంతో నిరోధాన్ని కొలుచుట
 c) మల్టీమీటరు సహాయంతో కొలిచిన విలువను, $R = \frac{V^2}{P}$ తో పోల్చి చూచుట.
 d) దానిలో ఫిలమెంట్‌ను తీసుకొని వివిధ వోల్టేజీలకు అనువర్తింపజేసి, అమ్మీటర్ రీడింగ్‌లను గుర్తించి, 'వ్రత్‌వోల్టేజి', దానికి అనుగుణంగా అమ్మీటరు రీడింగ్‌లను గ్రాఫ్‌పేపర్‌పై గీసి; దాని గ్రాఫ్ ఆధారంగా నిరోధాన్ని నిర్ణయిస్తాడు.

34. పుటాకార దర్పణ ఆవర్తనం m విలువ 1 కంటే తక్కువ ఋణాత్మకం. ఈ సమాచారానికి సరైన జవాబు.

- వస్తువు C కి ఆవల వుంది, ప్రతిబింబం తలక్రిందులుగా చిన్నదిగా ఏర్పడింది.
- వస్తువు C కి F కి మధ్య వుంది. ప్రతిబింబం తలక్రిందులుగా పెద్దదిగా ఏర్పడింది.
- వస్తువు F వద్ద ఉంది, ప్రతిబింబం అనంతదూరంలో వుంది.
- వస్తువు F కి P కి మధ్య వుంది, ప్రతిబింబం నిటారుగా దర్పణంలో పెద్దదిగా ఏర్పడింది.

35. ఉష్ణోగ్రత పెంచేకొద్దీ, వాహకనిరోధం పెరుగుతుంది. దీనికి గల కారణం

- ఎలక్ట్రానులు ఢీకొనటం
- ఎలక్ట్రానులు ద్రవ్యరాశి మారటం
- వాహకం వ్యాకోచించటం
- ఎలక్ట్రానులు, లాటిస్ ల మధ్య జరిగే అభిఘాతాల మధ్య సమయం తగ్గటం; లాటిస్ గల అయాన్ల కంపనాలు పెరగటం.

36. కన్ను నాభ్యాంతరం కనుగొనటానికి అనువైన ఫార్ములా

$$a) \quad \frac{1}{f} = (n-1) \left(\frac{1}{R_1} - \frac{1}{R_2} \right) \quad \frac{1}{f} = \frac{1}{v} - \frac{1}{u}$$

-
-
- a & b
- నిర్ధారించలేం

37. 2వ సీరిస్ కు చెందిన మూలకాలు - వాటి పరమాణు వ్యాసార్థాలు ఇవ్వబడినాయి.

పరమాణువు (Pm) :	Li	Be	B	C	N	O
	152	111	88	72	74	66

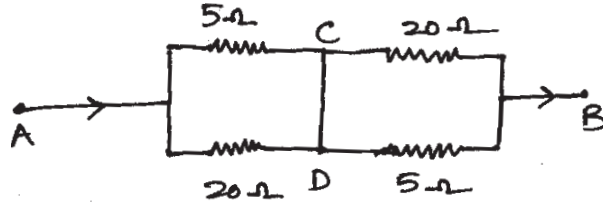
వీటిలో తక్కువ అయనీకరణ శక్తి కలది

- Li
- Be
- N
- O

V. ఖాళీలను పూరించండి.

(10× = 5)

38. ఒక వలయాన్ని పటంలో చూపడం జరిగింది. A వద్ద 5 అంపియర్ల విద్యుత్ ప్రవాహము వలయంలోకి ప్రవేశించినందుకుండా.



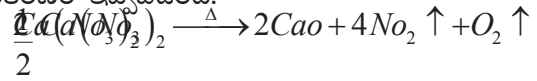
C, D బిందువుల మధ్య పొటెన్షియల్ భేదము

39. పటంలో చూపినవిధంగా ఒక చిన్న అయస్కాంతము (M) ను లోహపురింగుగుండా పడేట్లు చేసామనుకుండా.

అయస్కాంత చలన ఫలితంగా లోహపు రింగులో ఏర్పడే ప్రేరిత విద్యుత్ ప్రవాహముదిశలో ఉంటుంది.



40. కాల్షియం నైట్రేట్‌పై వేడిమిచర్య యొక్క తుల్యసమీకరణం ఇవ్వబడింది.

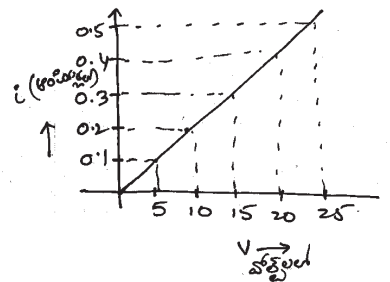


[Ca(NO₃)₂, CaO ల అను ద్రవ్యరాశులు వరుసగా 164, 56]

ఒక మోల్ వియోగం చెందినపుడు NO₂ వెలువడుతుంది.

41. X మరియు Y పరమాణువుల ఎలక్ట్రాన్ విన్యాసాలు వరుసగా 1S²2S²2P⁶3S¹ మరియు 1S²2S²2P⁴ వీటిలో కాటయాను ఏర్పరచగల పరమాణువు

42. మధు అనే విద్యార్థి ఒక తీగ, వోల్ట్‌మీటర్, అమ్మీటర్‌ను వాడి సేకరించిన విద్యుత్ ప్రవాహాన్ని Y-అక్షంపైన, వోల్టేజీలను X-అక్షముపై తీసుకొని గ్రాఫు గీచాడు. పై గ్రాఫ్ నియమాన్ని తెలుపుతుంది?



43. A అనే కర్బన్ సమ్మేళనం (ఫార్ములా C₂H₆O) ను మంచి ద్రావణిగా ఔషధతయారీలో విరివిగా ఉపయోగిస్తారు. ఈ సమ్మేళనాన్ని ఆల్కలైన్ పొటాషియం పర్మాంగనేట్‌తో బాగా వేడిచేసినపుడు అది ఆక్సికరణం చెంది చివరకు B అనే కర్బనసమ్మేళనం ఏర్పడుతుంది. B సమ్మేళనం నీలి లిట్రమ్‌ను ఎరువుగా మార్చుతుంది.

B సమ్మేళనంయొక్క ఫార్ములా

44. S, Se, Te లు డాబర్సీర్ త్రికమైతే Se యొక్క పరమాణు భారం
(S, Te ల పరమాణుభారాలు వరుసగా 32, 125)
45. X, Y, Z అనే ద్రావణాల pH విలువలు వరుసగా 13, 6, 2. వీటిలో బలమైన ఆమ్లము.....
46. ద్రవస్థితిలో లోహాన్ని పచ్చికర్రలతో కలపడంవలన కాపర్ చెందుతుంది.
47. సఫోనిఫికేషన్ చర్యలోని కాంజికాభ ద్రావణంలోఉన్న ద్రావిత కణాల వ్యాసము కన్నా ఎక్కువగా, కన్నా తక్కువగా ఉంటుంది.