

# రాష్ట్ర స్థాయి పోలీస్ నియామక సంస్థ ఆంధ్రప్రదేశ్

పోలీస్ కానిస్టేబుల్స్ (ప్రిలిమినరీ) మాదిరి ప్రశ్నపత్రం

No. of Questions: 200

Maximum Marks: 200

Time: 3 Hrs

- 103వ సైన్స్ కాంగ్రెస్కు సంబంధించి కిందివాటిలో సరైనది ఏది?
  - 1) ప్రధానమంత్రి ఈ సదస్సును మైసూరులో ప్రారంభించారు.
  - 2) జనవరి 3 నుంచి 5 రోజుల పాటు జరిగింది.
  - 3) భారత్ లో దేశీయ అభివృద్ధి, సైన్స్ అండ్ టెక్నాలజీ పాత్ర అనే ఇతివృత్తంతో దీన్ని నిర్వహించారు.
  - 4) పైవన్నీ సరైనవే
- 2016 ఆస్ట్రేలియన్ ఓపెన్ మహిళల సింగిల్స్ టైటిల్ ను జర్మనీకి చెందిన ఎంజెలిక్ కెర్పర్ గెలుచుకుంది. ఈమె ఎవరిపై గెలుపొందింది?
  - 1) వీనస్ విలియమ్స్
  - 2) సెరెనా విలియమ్స్
  - 3) మరియా షరపోవా
  - 4) సానియా మీర్జా
- గుడ్లు తెల్లసొనలో ఉండే ప్రొటీన్ పేరు ఏమిటి?
  - 1) గ్లోబిన్
  - 2) కెరోటిన్
  - 3) అల్బుమిన్
  - 4) ఫైబ్రోయిన్
- 2016, జనవరి 18న ఏ రాష్ట్రాన్ని భారతదేశ సేంద్రియ వ్యవసాయ రాష్ట్రంగా ప్రకటించారు?
  - 1) కేరళ
  - 2) గోవా
  - 3) సిక్కిం
  - 4) పంజాబ్
- 2016 ఫిబ్రవరిలో జాతీయ మానవ హక్కుల కమిషన్ చైర్మన్ గా ఎవరు నియమితులయ్యారు?
  - 1) హెచ్. లక్ష్మీనారాయణ దత్
  - 2) కె.జి. బాలకృష్ణన్
  - 3) శీల్ కాంత్ శర్మ
  - 4) డాక్టర్ ఆర్.ఎస్. రాకూర్
- 2016, ఫిబ్రవరి 16న భారత్ పూర్తి స్వదేశీ పరిజ్ఞానంతో తయారుచేసిన క్షిపణిని ఒడిశాలోని చాందీపూర్ లో ఉన్న ITR నుంచి విజయవంతంగా పరీక్షించింది. ఆ క్షిపణి పేరేంటి?
  - 1) పృథ్వి - 1
  - 2) పృథ్వి - 2
  - 3) అగ్ని
  - 4) అస్త్ర
- 2016, జనవరి 28న కేంద్ర ప్రభుత్వం ఆకర్షణీయ నగరాల పోటీలో తొలి జాబితాలో భాగంగా 20 నగరాలను ప్రకటించింది. కింది ఏ నగరం ఈ జాబితాలో లేదు?
  - 1) విశాఖపట్నం
  - 2) కాకినాడ
  - 3) తిరుపతి
  - 4) చెన్నై
- ఉపరాష్ట్రపతి హమీద్ అన్నారీ ఇటీవల 'ద టర్బులెంట్ ఇయర్' అనే పుస్తకాన్ని న్యూదిల్లీలో ఆవిష్కరించారు. ఈ పుస్తక రచయిత ఎవరు?
  - 1) వై.వి. రెడ్డి
  - 2) ఉర్షిత్ పటేల్
  - 3) రఘురామ్ రాజన్
  - 4) ప్రణబ్ ముఖర్జీ
- జాతీయ ఓటరు దినోత్సవం (జనవరి 25) సందర్భంగా ఎన్నికల సంఘం విడుదల చేసిన టోల్ ఫ్రీ నెంబరు ఏది?
  - 1) 1551
  - 2) 5151
  - 3) 1950
  - 4) 1590
- 2011 జనాభా లెక్కల ప్రకారం ఆంధ్రప్రదేశ్ లో ఎస్టీ జనాభా ఎక్కువగా ఉన్న జిల్లా ఏది?
  - 1) శ్రీకాకుళం
  - 2) తూర్పు గోదావరి
  - 3) విశాఖపట్నం
  - 4) విజయనగరం

11. కిందివాటిలో సిల్వర్ రెవల్యూషన్ దేనికి సంబంధించింది?  
 1) కోడిగుడ్డు 2) నూనెగింజల ఉత్పత్తి 3) చేపల ఉత్పత్తి 4) పాల ఉత్పత్తి
12. ఆవుపాలు లేత పసుపు రంగులో ఉండటానికి కారణమైన విటమిన్ ఏది?  
 1) థయమిన్ 2) ఆస్కార్బిక్ ఆమ్లం 3) నియాసిన్ 4) రైబోఫ్లేవిన్
13. 2017లో 104వ ఇండియన్ సైన్స్ కాంగ్రెస్ సమావేశాలు ఎక్కడ జరగనున్నాయి?  
 1) కోల్ కతా 2) తిరుపతి 3) దిల్లీ 4) ముంబయి
14. 2016 రంజీ క్రికెట్ ట్రోఫీ విజేత ఎవరు?  
 1) సౌరాష్ట్ర 2) కర్ణాటక 3) ముంబయి 4) జమ్మూ కశ్మీర్
15. ఆంధ్రప్రదేశ్ లో కాపులను బీసీల్లో చేర్చే అంశాన్ని అధ్యయనం చేయడానికి నియమించిన కమిషన్ ఏది?  
 1) జస్టిస్ జీవన్ రెడ్డి కమిషన్ 2) డాక్టర్ సుబ్రమణ్యం కమిషన్  
 3) జస్టిస్ మంజునాథ కమిషన్ 4) జస్టిస్ శంకర కురూన్ కమిషన్
16. ఏ రాష్ట్ర ఎన్నికల కమిషన్ స్థానిక ఎన్నికల్లో పోటీచేయాలంటే ఇంట్లో మరుగుదొడ్డి కచ్చితంగా ఉండాలనే నియమాన్ని విధించింది?  
 1) తెలంగాణ 2) బీహార్ 3) త్రిపుర 4) మహారాష్ట్ర
17. కింది అంశాలను జతపరచండి.  
 I) టార్టారిక్ ఆమ్లం A) మూత్రంలో ఉండేది  
 II) ఆగ్జాలిక్ ఆమ్లం B) ద్రాక్షలో ఉండేది  
 III) మాలిక్ ఆమ్లం C) టమాటాలో ఉండేది  
 IV) యూరిక్ ఆమ్లం D) ఆపిల్ లో ఉండేది  
 1) I-A, II-B, III-C, IV-D 2) I-A, II-D, III-B, IV-C  
 3) I-B, II-D, III-A, IV-C 4) I-B, II-C, III-D, IV-A
18. 'ఎంటమాలజీ' ఏ అధ్యయన శాస్త్రం?  
 1) కీటకాలు 2) పక్షులు 3) నేలలు 4) పుష్పాలు
19. గూగుల్ ఇండియా, రైల్వేకు చెందిన 'రైల్ టైల్' సంస్థలు సంయుక్తంగా అందిస్తోన్న ఉచిత వైఫై సౌకర్యాన్ని భారతదేశంలో 2016, జనవరి 23న కేంద్ర రైల్వేశాఖ మంత్రి ప్రారంభించారు. భారతదేశంలో మొదటి వేగవంతమైన 'వైఫై' సౌకర్యం ఉన్న రైల్వేస్టేషన్ ఏది?  
 1) ముంబయి చర్చిగేట్ 2) ముంబయి సెంట్రల్  
 3) చెన్నై సెంట్రల్ 4) అహ్మదాబాద్
20. రిపబ్లిక్ ఆఫ్ సూడాన్ (దక్షిణ సూడాన్) రాజధాని నగరం ఏది?  
 1) దౌదామా 2) జుబా 3) అఖ్లేర్స్ 4) కంపాలా
21. కిందివాటిలో మధ్య హిమాలయాలుగా పేర్కొనేవి?  
 1) ట్రాన్స్ హిమాలయాలు 2) హిమాద్రి 3) హిమాచల్ 4) శివాలిక్
22. దూద్గా కొండలు ఏ రాష్ట్రంలో ఉన్నాయి?  
 1) ఉత్తర్ ప్రదేశ్ 2) హిమాచల్ ప్రదేశ్ 3) అసోం 4) ఉత్తరాఖండ్

23. మన దేశంలో సింహాలకు ప్రసిద్ధి చెందిన గిర్ పర్వతాలు ఏ రాష్ట్రంలో ఉన్నాయి?  
 1) రాజస్థాన్                      2) గుజరాత్                      3) మిజోరాం                      4) అరుణాచల్ ప్రదేశ్
24. రోమన్ దేశస్థులు 'అందమైన దేవత'గా పూజించే గ్రహం శుక్రడు. దీనికి మరో పేరు?  
 1) గాడ్ ఆఫ్ వార్                      2) గాడ్ ఆఫ్ బ్లూమ్ స్ప్రింగ్  
 3) రూలర్ ఆఫ్ గాడ్, మెన్                      4) రూలర్ ఆఫ్ పవర్
25. కింది అంశాలను జతపరచండి.  
 I) మెక్మోహన్ రేఖ                      A) భారత్ - చైనా మధ్య ఉంది  
 II) డ్యూరాండ్ రేఖ                      B) భారత్ - చైనా మధ్య ఉన్న అంతర్జాతీయ సరిహద్దు రేఖ  
 III) వాస్తవాధీనరేఖ                      C) భారత్ - ఇండోనేషియాలను వేరుచేస్తుంది  
 IV) గ్రేట్ ఛానల్                      D) భారత్ - అష్టనిస్థాన్ మధ్య అంతర్జాతీయ రేఖ  
 1) I-B, II-D, III-A, IV-C                      2) I-B, II-A, III-D, IV-C  
 3) I-B, II-D, III-C, IV-A                      4) I-D, II-C, III-A, IV-B
26. మాంచెస్టర్ ఆఫ్ సౌత్ ఇండియాగా దేన్ని పిలుస్తారు?  
 1) కాన్పూర్                      2) అహ్మదాబాద్  
 3) కోయంబత్తూర్                      4) విశాఖపట్నం
27. కిందివాటి సరైన క్రమాన్ని గుర్తించండి.  
 1) వసంత రుతువు - హేమంత రుతువు - గ్రీష్మరుతువు - శిశిర రుతువు  
 2) వసంత రుతువు - హేమంత రుతువు - వర్ష రుతువు - శిశిర రుతువు  
 3) గ్రీష్మ రుతువు - హేమంత రుతువు - వర్ష రుతువు - శరత్ రుతువు  
 4) వసంత రుతువు - గ్రీష్మ రుతువు - వర్ష రుతువు - శరత్ రుతువు
28. కిందివాటిలో సరికాని దాన్ని గుర్తించండి.  
 1) అధిక ఉష్ణోగ్రతలు ఉన్న సమయంలో జలభాగంలో అల్పవీడనం.  
 2) అధిక ఉష్ణోగ్రతలు ఉన్న సమయంలో భూభాగంలో అల్పవీడనం.  
 3) జలభాగాన్ని భూభాగంతో పోలిస్తే నిదానంగా వేడెక్కుతుంది.  
 4) జలభాగం కంటే భూభాగం తొందరగా వేడెక్కుతుంది.
29. కిందివాటిలో సరికానిదేది?  
 1) సమ వీడన రేఖలు - ఐసోబార్స్                      2) సమ ఉష్ణోగ్రత రేఖలు - ఐసోసెస్మిల్స్  
 3) సమ వర్షపాత రేఖలు - ఐసోహైట్స్                      4) సమ హిమపాత రేఖలు - ఐసోనిప్స్
30. నైరుతి రుతుపవనాల కాలంలో తమిళనాడులో పొడిగా ఉండటానికి కారణమేంటి?  
 1) పవనాలు ఈ ప్రాంతాన్ని చేరుకోకపోవడం  
 2) ఈ ప్రాంతంలో పర్వతాలు లేకపోవడం  
 3) ఇది వర్షచ్ఛాయా ప్రాంతంలో ఉండటం  
 4) పవనాలు చల్లబడటానికి వీలేకుండా ఉష్ణోగ్రతలు చాలా ఎక్కువగా ఉండటం

31. 9° ఛానెల్ ఏ దీవుల మధ్యగా వెళ్తుంది?
- 1) మిన్కాయ్ - సుహేలి  
2) అమిని - సుహేలి దీవి  
3) లిటిల్ అండమాన్ - కార్నికోబార్  
4) లిటిల్ అండమాన్ - దక్షిణ అండమాన్
32. నార్కోండం అగ్నిపర్వతం ఎక్కడ ఉంది?
- 1) ఉత్తర అండమాన్ సమీపంలో  
2) దక్షిణ అండమాన్ సమీపంలో  
3) మధ్య అండమాన్ సమీపంలో  
4) గ్రేట్ నికోబార్ సమీపంలో
33. బ్రహ్మపుత్ర నదిని 'ది హంగ్' అని ఎక్కడ పిలుస్తారు?
- 1) అసోం  
2) టిబెట్  
3) హిమాచల్ ప్రదేశ్  
4) ఆరుణాచల్ ప్రదేశ్
34. అలకనంద, పిండారి నది కలుసుకునే ప్రాంతం ఏది?
- 1) రుద్ర ప్రయాగ  
2) దేవ ప్రయాగ  
3) కరన్ ప్రయాగ  
4) విష్ణు ప్రయాగ
35. కిందివాటిలో భారత్ - పాకిస్థాన్ల మధ్య ఉన్న వివాదాస్పద ప్రాజెక్టు ఏది?
- 1) కిషన్ గంగా  
2) కోసి  
3) బాగ్లిహార్  
4) తుల్బుల్
36. కిందివాటిలో గోదావరి నదిపై లేని ప్రాజెక్టు ఏది?
- 1) ఇచ్చంపల్లి  
2) జూరాల  
3) శ్రీరాంసాగర్  
4) బాబ్లీ
37. ఆంధ్రప్రదేశ్ లో పొడవైన జాతీయ రహదారి ఏది?
- 1) NH - 7  
2) NH - 6  
3) NH - 16  
4) NH - 9
38. ప్రపంచంలో అత్యధిక రైలుమార్గ సాంద్రత ఉన్న ప్రాంతం?
- 1) అమెరికా  
2) పశ్చిమ యూరప్  
3) జపాన్  
4) రష్యా
39. కిందివాటిలో భారతదేశంలో అత్యధిక భూ సరిహద్దు ఉన్న దేశం ఏది?
- 1) బంగ్లాదేశ్  
2) చైనా  
3) మయన్మార్  
4) శ్రీలంక
40. కిందివాటిలో సరికాని జత ఏది?
- 1) క్షయ - BCG  
2) పచ్చకామెర్లు - సాన్ వాక్  
3) తట్టు - DPT  
4) గవదబిళ్లలు - MMR
41. జాతీయ జెండా పేరు వినగానే ఇంటర్ చదువుతున్న ప్రవీణ్ అనే విద్యార్థి మనసులో జెండా ఆకారం, దానిలోని రంగులు మెదిలాయి. అయితే దీనికి కారణమైన మెదడు సంబంధ భాగం ఏది?
- 1) హైపోథాలామస్  
2) అనుమస్తిష్కం  
3) మస్తిష్కం  
4) మజ్జాముఖం
42. సువాసన కోసం బిర్యానీ తయారీలో ఉపయోగించే "అత్తర్ పూల్" అనే సుగంధ ద్రవ్యం ఒక రకమైన...
- 1) వైవలం  
2) శిలీంధ్రం  
3) నీటి మొక్క  
4) లైకెన్
43. "నింబిన్" అనే ఆల్కలాయిడ్ ఏ రాష్ట్ర వృక్షం నుంచి దొరుకుతుంది?
- 1) కర్ణాటక  
2) తెలంగాణ  
3) ఆంధ్రప్రదేశ్  
4) తెలంగాణ, ఆంధ్రప్రదేశ్
44. కాంగ్రెస్ వీడ్ అనే పేరున్న ఊపిరితిత్తుల వ్యాధులకు కారణమయ్యే ప్రమాదకరమైన కలుపు మొక్క ఏది?
- 1) దతూర  
2) వెంపలి  
3) పార్థినియం  
4) గన్నేరు





67. అనివిసెంట్ 1917లో ఎక్కడ జరిగిన భారత జాతీయ కాంగ్రెస్ మహాసభకు అధ్యక్షత వహించారు?

- 1) లాహోర్                      2) కరాచీ                      3) కలకత్తా                      4) అమృత్‌సర్

68. కిందివాటిని జతపరచండి.

జాబితా - 1

జాబితా - 2

- I) కళింగ యుద్ధం  
II) రెండో పానిపట్టు యుద్ధం  
III) కాణ్వా యుద్ధం  
IV) షాసీ యుద్ధం  
V) పద్మనాభ యుద్ధం  
1) I-E, II-A, III-D, IV-C, V-B  
2) I-E, II-B, III-C, IV-D, V-A  
3) I-E, II-D, III-A, IV-B, V-C  
4) I-E, II-D, III-C, IV-B, V-A

- A) 1794  
B) 1557  
C) 1527  
D) 1556  
E) క్రీ.పూ.261

69. హరప్పా నాగరికతలో గొప్పదైన ధాన్యగారాన్ని ఎక్కడ ఏర్పాటు చేశారు?

- 1) రోపర్                      2) హరప్పా  
3) కాళిబంగన్                      4) మొహంజోదారో

70. మోష్లా తిరుగుబాటు (1921) ఎక్కడ జరిగింది?

- 1) కశ్మీర్  
2) కేరళ  
3) నార్త్ - వెస్ట్ ప్రాంటియర్ ప్రావిన్స్  
4) అసోం

71. క్విట్ ఇండియా ఉద్యమం సందర్భంగా 'డూ ఆర్ డై'అనే నినాదాన్ని ఎవరు ఇచ్చారు?

- 1) భగత్‌సింగ్                      2) మహాత్మాగాంధీ  
3) సుభాష్ చంద్రబోస్                      4) జవహర్‌లాల్ నెహ్రూ

72. కిందివాటిని జతపరచండి.

వ్యక్తులు

ప్రత్యేకతలు

- I) బిపిన్ చంద్రపాల్  
II) అరవింద్ ఘోష్  
III) రాస్ బిహారీ బోస్  
IV) సుభాష్ చంద్రబోస్  
1) I-C, II-D, III-B, IV-A  
3) I-D, II-C, III-B, IV-A

- A) ఫార్వర్డ్‌బ్లాక్ పార్టీ స్థాపన  
B) ఇండియన్ ఇండిపెండెన్స్‌లీగ్ స్థాపన  
C) పారదర్శక, ట్రిబ్యూన్ పత్రికల స్థాపన  
D) సావిత్రి, లైఫ్ డివైన్ లాంటి రచనలు  
2) I-D, II-B, III-C, IV-A  
4) I-C, II-D, III-A, IV-B

73. కిందివాటిని జతపరచండి.

కవులు

రచనలు

- |                 |                     |
|-----------------|---------------------|
| I) వసుమిత్రుడు  | A) బృహత్కథ          |
| II) కాళిదాసు    | B) మహావిభాష్య సూత్ర |
| III) గుణాధ్యుడు | C) రఘువంశం          |
| IV) అశ్వఘోషుడు  | D) బుద్ధచరిత        |

1) I-B, II-C, III-D, IV-A

2) I-B, II-C, III-A, IV-D

3) I-A, II-B, III-C, IV-D

4) I-A, II-C, III-D, IV-B

74. 'మెహర్' అనే బంగారు నాణేలను ముద్రించిన రాజు?

- |                  |                    |                   |              |
|------------------|--------------------|-------------------|--------------|
| 1) నానా ఫద్దవీస్ | 2) టిప్పు సుల్తాన్ | 3) రెండో బాబీరావు | 4) హైదర్ అలీ |
|------------------|--------------------|-------------------|--------------|

75. రెండో పానిపట్టు యుద్ధ విజయం ద్వారా మొగల్ సింహాసనాన్ని అధిష్టించిందెవరు?

- |           |          |           |             |
|-----------|----------|-----------|-------------|
| 1) షేర్షా | 2) బాబర్ | 3) అక్బర్ | 4) హుమాయూన్ |
|-----------|----------|-----------|-------------|

76. భారతదేశంలో పోర్చుగీసువారు ప్రవేశపెట్టిన పంట ఏది?

- |            |         |         |           |
|------------|---------|---------|-----------|
| 1) వేరుశనగ | 2) కాఫీ | 3) మిరప | 4) పొగాకు |
|------------|---------|---------|-----------|

77. శాశ్వత శిస్తు నిర్ణయ పద్ధతిని కారన్ వాలీస్ ఎవరి సూచన ప్రకారం బెంగాల్, బిహార్ లో ప్రవేశ పెట్టారు?

- |            |                  |             |                     |
|------------|------------------|-------------|---------------------|
| 1) ముల్లర్ | 2) సర్ జాన్ షోర్ | 3) ఇ. బర్క్ | 4) జాన్ మెక్ పర్సన్ |
|------------|------------------|-------------|---------------------|

78. భారతదేశంలో ఆంగ్లమాధ్యమాన్ని ప్రవేశ పెట్టిన గవర్నర్ జనరల్ ఎవరు?

- |                   |                      |                    |                  |
|-------------------|----------------------|--------------------|------------------|
| 1) లార్డ్ డల్హౌసీ | 2) వారన్ హేస్టింగ్స్ | 3) విలియం బెంటింక్ | 4) లార్డ్ మెకాలే |
|-------------------|----------------------|--------------------|------------------|

79. ఆధునిక భారతదేశ చరిత్రలో 'స్థానిక స్వపరిపాలనా పిత' గా కీర్తి పొందిన గవర్నర్ జనరల్ ఎవరు?

- |                   |                  |                   |                |
|-------------------|------------------|-------------------|----------------|
| 1) లార్డ్ కానింగ్ | 2) లార్డ్ కర్జన్ | 3) లార్డ్ రిప్పన్ | 4) లార్డ్ మేయో |
|-------------------|------------------|-------------------|----------------|

80. భారత రాజ్యాంగ ప్రవేశికను 'భారత జాతికి జాతకచక్రం'గా అభివర్ణించింది ఎవరు?

- |                  |              |                      |                    |
|------------------|--------------|----------------------|--------------------|
| 1) కె.ఎం. మున్షీ | 2) అంబేద్కర్ | 3) ఎర్నేస్ట్ బార్కర్ | 4) బి.ఎల్. మిట్టల్ |
|------------------|--------------|----------------------|--------------------|

81. కిందివాటిని జతపరచండి.

అంశం

అధికరణ

- |                               |                           |
|-------------------------------|---------------------------|
| I) ప్రాథమిక హక్కులు           | A) 324 నుంచి 329 వరకు     |
| II) కేంద్ర, రాష్ట్ర సర్వీసులు | B) 343 నుంచి 351 వరకు     |
| III) ఎన్నికల యంత్రాంగం        | C) 12 నుంచి 35 వరకు       |
| IV) అధికార భాషలు              | D) 308 నుంచి 323 వరకు     |
| 1) I-C, II-A, III-B, IV-D     | 2) I-A, II-B, III-C, IV-D |
| 3) I-C, II-D, III-B, IV-A     | 4) I-C, II-D, III-A, IV-B |

82. రాష్ట్ర ఆగంతుక నిధి ఎవరి ఆధీనంలో ఉంటుంది?

- |                              |                |
|------------------------------|----------------|
| 1) గవర్నర్                   | 2) ముఖ్యమంత్రి |
| 3) ప్రభుత్వ ముఖ్య కార్యదర్శి | 4) హోంమంత్రి   |



83. భారతదేశంలో మొదటి మహిళా గవర్నర్ గా సరోజినీ నాయుడు ఏ రాష్ట్రంలో విధులు నిర్వహించారు?
- 1) సిక్కిం                      2) మధ్యప్రదేశ్                      3) రాజస్థాన్                      4) ఉత్తర్ ప్రదేశ్
84. భారతదేశంలో రాజ్యసభ విషయంలో సత్యమైన వాక్యం ఏది?
- 1) రాజ్యసభను రద్దుచేయడం సాధ్యం కాదు                      2) నాలుగేళ్లకు ఒకసారి రద్దు చేయొచ్చు
- 3) భారత రాష్ట్రపతి రద్దు చేయొచ్చు                      4) భారత ఉపరాష్ట్రపతి రద్దు చేయొచ్చు
85. భారత ఉపరాష్ట్రపతిని ఎవరు ఎన్నుకుంటారు?
- 1) రాష్ట్ర శాసన సభ్యులు                      2) భారత ప్రజలు
- 3) పార్లమెంట్ ఉభయ సభల సభ్యులు                      4) కేవలం లోక్ సభ సభ్యులు
86. తొమ్మిదో పంచవర్ష ప్రణాళిక ఉపాధ్యక్షులు ఎవరు?
- 1) ప్రణబ్ ముఖర్జీ                      2) కె.సి.పంత్                      3) డాక్టర్ లక్ష్మణ్                      4) మధు దండావతే
87. ప్రస్తుతం కరెన్సీ ముద్రణలో ఆర్ బీఐ అవలంబించే కనీస నిల్వల పద్ధతిని ఎప్పుడు ప్రవేశపెట్టారు?
- 1) 1955                      2) 1957                      3) 1956                      4) 1958
88. కిందివాటిలో తప్పుగా ఉన్న జతను గుర్తించండి.
- 1) నిరంతర ప్రణాళికలు - మొరార్జీ దేశాయ్
- 2) ఇరవై సూత్రాల కార్యక్రమం - ఇందిరాగాంధీ
- 3) పార్టీ ఫిరాయింపుల నిరోధక చట్టం - రాజీవ్ గాంధీ
- 4) స్థానిక సంస్థలకు స్వయం ప్రతిపత్తి - వి.పి. సింగ్
89. కిందివాటిని జతపరచండి.
- I) పెట్టుబడిదారీ ఆర్థిక వ్యవస్థ                      A) సేవల రంగం
- II) మిశ్రమ ఆర్థిక వ్యవస్థ                      B) వస్తు సేవలను ప్రభుత్వం ఉత్పత్తి చేయడం
- III) సామ్యవాద ఆర్థిక వ్యవస్థ                      C) వస్తు సేవలను ప్రైవేటు వ్యక్తులు ఉత్పత్తి చేయడం
- IV) బ్యాంకింగ్                      D) వస్తు సేవలను ప్రైవేటు, ప్రభుత్వం కలిసి ఉత్పత్తి చేయడం
- 1) I-D, II-C, III-B, IV-A                      2) I-A, II-B, III-C, IV-D
- 3) I-C, II-D, III-B, IV-A                      4) I-C, II-D, III-A, IV-B
90. కిందివాటిని జతపరచండి.
- బ్యాంకు                      ఏర్పాటైన సంవత్సరం
- I) అలహాబాద్ బ్యాంక్                      A) 1908
- II) బ్యాంక్ ఆఫ్ బరోడా                      B) 1925
- III) సిండికేట్ బ్యాంక్                      C) 1938
- IV) దేనా బ్యాంక్                      D) 1865
- 1) I-D, II-B, III-A, IV-C                      2) I-A, II-B, III-C, IV-D
- 3) I-B, II-D, III-A, IV-C                      4) I-D, II-A, III-B, IV-C

(Q.91 – 92): Choose the correct synonym to the following words.

91. Ludicrous

- 1) Audacity                      2) Arrange                      3) Absurd                      4) Ostentation

92. Pernicious

- 1) Deadly                      2) Curious                      3) Gargeous                      4) Expensive

93. Choose the appropriate meaning word for the given word.

Implicate

- 1) Make sure                      2) Doubt                      3) Insult                      4) Involve

(Q.94 – 96): Choose the most effective word to fill the blank to make the sentence meaningful.

94. Everybody should thankful ..... God.

- 1) to                      2) for                      3) at                      4) by

95. Prasad ..... Vijayawada yesterday.

- 1) left to                      2) left for                      3) left by                      4) left off

96. On seeing Indian soldier and the Pakistani army .....

- 1) ran away                      2) ran into                      3) ran around                      4) ran off

97. We must work hard, .....? (Choose the correct question tag)

- 1) mustn't we?                      2) must we?                      3) shall we?                      4) shan't we?

98. Sanskrit is ..... difficult language.

(Choose the correct article)

- 1) a                      2) an                      3) the                      4) No article

(Q.99 – 101): Choose the opposite words for the given words.

99. Meticulous

- 1) panicky                      2) thankful                      3) lavish                      4) careless

100. Luminous

- 1) dark                      2) ludicrous                      3) unsteady                      4) provoking

101. Baffle

- 1) thwart                      2) make way                      3) confuse                      4) check

102. Find out the correct meaning of the following phrasal verb which is underlined.

The enemy forces fell to the huge Indian army.

- 1) yielded                      2) succeeded                      3) stunned                      4) defeated

103. Choose the correct sentence that has no error.

- 1) She married with my brother                      2) She is married to my brother  
3) She is married with my brother                      4) She is married my brother

104. Identify the part of speech of the underlined word. Ramesh is a teacher.

- 1) noun                                      2) pronoun                                      3) verb                                      4) adjective

(Q.105 – 109): Read the following passage and answer the following questions given below it.

Once there lived a rich man. He had a beautiful garden with lovely flowers and sweet-smelling plants. The trees were full of fruits. One day a mischievous bird came to the garden. It plucked off many fruits. It dropped some on the ground. It spoiled the beauty of the garden. The gardener felt sad. He realised the damage. He decided to catch the bird. He spread a net. He hid behind a bush. He waited silently, the bird was caught in the net. He grasped it and was about to kill it. Then the bird spoke politely to him. It praised him. The gardener was pleased. His anger had gone. The bird proposed an argument. It would reveal three golden maxims in return to its freedom. The gardener accepted. The bird told the gardener about the three maxims. The first one was not to believe impossibilities.

The second was not to trust a dishonest person. The third was not to regret over the things could not be set right. As per the agreement, the gardener, set the bird free.

The bird sat on a branch of a near by tree. It laughed at him. It said that it had a huge gem within its tiny body. On hearing this, the gardener wept and beat his brain. He was foolish enough to believe the words of the bird about the gem. Regarding the second rule, he believed the cunning words of the bird and set it free. Finally his trails to recapture it were futile. His repentance could not solve the problem. The gardener was fooled. The tricky bird disappeared. The three maxims which give happiness result in sorrow to the gardener.

105. The beauty of the garden was spoiled by..

- 1) The gardener himself                                      2) The rich man  
3) A mischievous bird                                      4) Some naughty boys

106. The gardener spread a net ....

- 1) to catch the bird                                      2) to collect the fruits  
3) on the orders of his master                                      4) to wait silently by the nest

107. The second of the three maxims the bird told was ..

- 1) not to take care of the garden very much                                      2) not to trust any dishonest person  
3) not feel sorry over the past things                                      4) not to believe impossibilities

108. The gardener beat his brain

- 1) as he could not get the gem from the body of the bird  
2) as he help deeply felt sorry for the damage caused by the bird  
3) as he was seriously warned by his master  
4) for his foolishness in setting the bird free

109. The first of the three maxims the bird told was

- 1) not to take care of the garden very much                                      2) not trust any dishonest person  
3) not to feel sorry over the past things                                      4) not to believe impossibilities





133. లేఖ్య పుట్టిన రోజున వాళ్ల నాన్న 36 బెలూన్లు ఊదాడు. వేడుక పూర్తయ్యేసరికి వాటిలో కొన్ని పగిలిపోయాయి. అయితే కిందివాటిలో పగిలిన, పగలని బెలూన్ల నిష్పత్తి కానిది?
- 1) 1 : 2                      2) 3 : 1                      3) 2 : 3                      4) 1 : 5
134. పార్వతి ఒక పనిని 15 రోజుల్లో పూర్తి చేస్తుంది. కానీ శిరీష పని సామర్థ్యం పార్వతి కంటే 50% ఎక్కువ. అయితే ఆ పనిని పూర్తి చేయడానికి శిరీషకు ఎన్ని రోజులు పడుతుంది?
- 1) 10                      2)  $10\frac{1}{2}$                       3) 12                      4)  $7\frac{1}{2}$
135. ఒక రైలు దాని సాధారణ వేగంలో  $\frac{7}{8}$  వ వంతు వేగంతో ప్రయాణించడం వల్ల 10 నిమిషాలు ఆలస్యం అయ్యింది. అయితే అదే రైలు దాని సాధారణ వేగంతో మొత్తం దూరం ప్రయాణించడానికి పట్టే కాలమెంత?
- 1) 80 నిమిషాలు                      2) 70 నిమిషాలు                      3) 60 నిమిషాలు                      4) 56 నిమిషాలు
136. ఒక పోలీస్ 100 మీటర్ల దూరంలో దొంగను చూశాడు. అతడిని పట్టుకోవడానికి పోలీస్, తప్పించుకోవడానికి దొంగ ఒకే సమయంలో పరిగెత్తడం ప్రారంభించారు. దొంగ వేగం సెకనుకు 3 మీటర్లు. పోలీస్ వేగం 5 మీటర్లు. అయితే పోలీస్ దొంగను ఎన్ని సెకన్లలో పట్టుకోగలడు?
- 1) 20                      2)  $33\frac{1}{3}$                       3) 50                      4) 100
137. ఫణి కొంత వేగంతో కొంత దూరం తన సైకిల్ పై ప్రయాణించాడు. కిరణ్ ఆ దూరంలో సగం దూరాన్ని ఫణికి పట్టిన సమయంలో రెట్టింపు సమయానికి చేరుకున్నాడు. అయితే ఫణి, కిరణ్ వేగాల నిష్పత్తి ఎంత?
- 1) 1 : 2                      2) 2 : 1                      3) 1 : 4                      4) 4 : 1
138. రెండు రకాల బియ్యం ధరలు రూ. 8.00, రూ. 11.40 పైసలు అయితే వీటిని ఏ నిష్పత్తిలో కలిపితే ఆ మిశ్రమం ధర రూ. 10.20 పైసలకు సమానమవుతుంది?
- 1) 4 : 3                      2) 3 : 4                      3) 2 : 1                      4) 2 : 3
139. 5% వార్షిక వడ్డీరేటుతో రోజుకి రూ. 1, సాధారణ వడ్డీనిచ్చే అసలు ఎంత?
- 1) రూ. 730                      2) రూ. 3,650                      3) రూ. 7,300                      4) రూ. 36,500
140. రమేష్ రెండు సైకిళ్లను ఒకే ధరకు కొనగా, మొదటి దానిపై 20% లాభం, రెండో దానిపై 20% నష్టం వచ్చింది. అయితే మొత్తం మీద అతడికి లాభమా? నష్టమా? అయితే ఎంత శాతం?
- 1) 1% నష్టం                      2) 2% నష్టం  
3) 4% నష్టం                      4) లాభం లేదా నష్టం ఉండదు
141. ఒక వృత్త వ్యాసార్థాన్ని 50 శాతం తగ్గిస్తే, దాని వైశాల్యంలో తగ్గుదల శాతం ఎంత?
- 1) 50%                      2) 25%                      3) 75%                      4) 70%
142. 12 మీ. × 9 మీ. × 8 మీ. కొలతలున్న గదిలో గరిష్టంగా ఎంత ఎత్తున్న స్తంభాన్ని ఉంచవచ్చు?
- 1) 12 మీ.                      2) 17 మీ.                      3) 15 మీ.                      4) 18 మీ.
143. A అనే వ్యక్తి రూ. 21,000 పెట్టుబడితో వ్యాపారం ప్రారంభించాడు. కొన్ని నెలల తర్వాత B అనే వ్యక్తి రూ. 36,000 పెట్టుబడితో ఆ వ్యాపారంలో చేరాడు. సంవత్సరాంతానికి ఇద్దరి ఆదాయాలు సమానంగా ఉంటే B ఎన్ని నెలల తర్వాత వ్యాపారంలో చేరాడు?
- 1) 6                      2) 5                      3) 4                      4) 8
144. 5 మామిడి పండ్ల సరాసరి ఖరీదు రూ. 6. వాటిలో 3 మామిడి పండ్ల సగటు ధర రూ. 4. అయితే మిగిలిన పండ్ల సగటు ధర ఎంత?
- 1) రూ. 8                      2) రూ. 10                      3) రూ. 7                      4) రూ. 9

145.  $\frac{x}{2y} = \frac{3}{2}$  అయితే  $\frac{2x+y}{x-2y} = ?$

- 1)  $\frac{1}{7}$                       2) 7                      3)  $\frac{1}{6}$                       4) 6

146. A : B = 3 : 4 ; B : C = 6 : 9 ; C : D = 12 : 19 అయితే A : B : C : D = ?

- 1) 9 : 12 : 16 : 19              2) 9 : 12 : 18 : 19              3) 6 : 8 : 12 : 19              4) 3 : 4 : 8 : 19

147. 300 మి.లీ., పాలలో 40% నీళ్లు ఉన్నాయి. అయితే ఆ మిశ్రమంలో ఇంకా ఎంత నీరు కలిపితే, పాలు, నీళ్ల నిష్పత్తి సమానమవుతుంది? (మి.లీ.లలో)

- 1) 80                      2) 30                      3) 60                      4) 10

148. కొంత సొమ్ము చక్రవర్తి ప్రకారం 2 సంవత్సరాల్లో రూ. 4840, 3 సంవత్సరాల్లో రూ. 5324 అయితే దాని వడ్డీరేటును కనుక్కోండి?

- 1) 5%                      2) 10%                      3) 15%                      4)  $7\frac{1}{2}$  %

149. 100 పేజీల పుస్తకంలో యాదృచ్ఛికంగా తెరిచిన పేజీ సంఖ్య, ఒక ప్రధాన సంఖ్య కాకుండా ఉండటానికి సంభావ్యత ఎంత?

- 1)  $\frac{1}{4}$                       2)  $\frac{3}{2}$                       3)  $\frac{3}{4}$                       4)  $\frac{1}{2}$

150.  $\sqrt{1 + \frac{81}{1600}} = 1 + \frac{x}{40}$  అయితే x విలువ?

- 1) 9                      2) 1                      3) 40                      4) 41

151. రాంబస్ లోని రెండు కర్ణాలు 6 సెం.మీ., 8 సెం.మీ.లు అయితే రాంబస్ చుట్టుకొలత ఎంత?

- 1) 16 సెం.మీ.                      2) 25 సెం.మీ.                      3) 24 సెం.మీ.                      4) 20 సెం.మీ.

152. మార్చి - 2005లో ఏ తేదీలో శుక్రవారం వస్తుంది?

- 1) 18                      2) 14                      3) 6                      4) 12

153. ఒక పడవ ప్రవాహ దిశలో 24 కి.మీ.ల దూరాన్ని 10 గంటల్లో ప్రయాణించగలదు. అదే దూరాన్ని వ్యతిరేకదిశలో ప్రయాణించడానికి 2 గంటల అదనపు సమయం పట్టింది. అయితే నిలకడ నీటిలో పడవ వేగమెంత? (కి.మీ./గంటల్లో)

- 1) 2.2                      2) 2.8                      3) 4                      4) 4.2

154. 'AUCTION' అనే పదంలోని అక్షరాలు, అచ్చులు కలిపి ఉండే విధంగా ఎన్ని అమరికలు ఉంటాయి?

- 1) 30                      2) 48                      3) 144                      4) 576

155. ఒక స్తూపం, శంఖువు భూవ్యాసార్థాల నిష్పత్తి 3 : 4, ఎత్తుల నిష్పత్తి 2 : 3. అయితే వాటి ఘనపరిమాణ నిష్పత్తి ఎంత?

- 1) 9 : 8                      2) 3 : 13                      3) 9 : 16                      4) 16 : 9

156. ఒక వేళ  $8 \times 9 = 2724$ ,  $4 \times 2 = 612$ ,  $7 \times 3 = 921$  అయితే  $6 \times 8 = \dots\dots?$

- 1) 1224                      2) 2418                      3) 1824                      4) 1215

157. S : 361 :: ? : 576

- 1) Y                      2) T                      3) W                      4) X

158. కిందివాటిలో భిన్నమైంది?

- 1) CEG                      2) JLN                      3) FHJ                      4) MNP

159. కిందివాటిలో భిన్నమైంది?

- 1) గ్రే 2) ఎరుపు 3) పసుపు 4) వయొలెట్

160. PLAY ను QNFI గా రాస్తే FUEL ను ఎలా రాస్తారు?

- 1) GVJV 2) GWKV 3) EWJV 4) GWJV

(సూచనలు: 161 – 162): A, B, C, D, E, F అనే ఆరుగురు కుటుంబ సభ్యులు ఒక కారులో ప్రయాణం చేస్తున్నారు. వారిలో B, D సోదరులు; E, B కి సోదరి. D తండ్రి F. E కూతురు C. F భార్య A.

161. B కి A ఏమవుతారు?

- 1) సోదరి 2) తల్లి 3) వదిన 4) కూతురు

162. C కి D ఏమవుతారు?

- 1) మేనమామ 2) బాబాయి 3) బావ 4) సోదరుడు

163. AGES ను 2356 గా, THEM ను 7854 గా రాస్తే GATE ను ఏ విధంగా రాస్తారు?

- 1) 3285 2) 3258 3) 3275 4) 3257

164.  $8\frac{4}{7}$ ,  $9\frac{6}{6}$ ,  $11\frac{5}{5}$ ,  $13\frac{8}{4}$ , ?

- 1)  $\frac{80}{3}$  2)  $\frac{70}{3}$  3)  $\frac{50}{3}$  4) 20

165. హరికృష్ణ కంటే చిన్నవాడైన బాలకృష్ణ, జయకృష్ణ కంటే పెద్దవాడు. మోహనకృష్ణ కంటే చిన్నవాడైన శంకరకృష్ణ, హరికృష్ణ కంటే పెద్దవాడు. అయితే అందరి కంటే పెద్దవాడు ఎవరు?

- 1) హరికృష్ణ 2) బాలకృష్ణ 3) శంకరకృష్ణ 4) మోహనకృష్ణ

166. ముందు N ఉండి తర్వాత U లేని M లు ఎన్ని ఉన్నాయి?

BGLNMUXIJMOPNMUZACHMKNUSR

- 1) 2 2) 1 3) 3 4) 0

167. ÷ అంటే -, + అంటే ÷, - అంటే ×, × అంటే + అయితే  $12 + 4 ÷ 3 \times 5 - 9 = ?$

- 1) 44 2) 45 3) 0 4) -45

168. కిషోర్ రాఘవేంద్ర కంటే పొడవు కానీ, రంజిత్ కంటే పొట్టి. రాఘవేంద్ర, హరీష్ ఒకటే ఎత్తు కానీ సాయికిరణ్ కంటే ఎక్కువ ఎత్తు. అయితే హరీష్...

- 1) కిషోర్ కు సమానమైన ఎత్తు 2) రాఘవేంద్ర కంటే తక్కువ ఎత్తు  
3) రంజిత్ కంటే ఎక్కువ ఎత్తు 4) కిషోర్ కంటే పొట్టి

169. ఒక తరగతిలో B పైనుంచి 9వ వాడు, C కింది నుంచి 8వ వాడు, A సరిగ్గా వారిద్దరి మధ్య ఉన్నాడు. B, A ల మధ్య నలుగురు విద్యార్థులుంటే, మొత్తం విద్యార్థులు ఎంతమంది?

- 1) 22 2) 26 3) 30 4) 32

170. cx pio bao అంటే the painters invested; got hdi kgi అంటే difference of money; hdi cx hd అంటే money is invested. అయితే cx ను సూచించే పదం ఏది?

- 1) painters 2) money 3) invested 4) is



171.  $ab - cba - bcc - aabccb - abc - ba$

- 1) acbaa                      2) cbaac                      3) caaa                      4) cabac

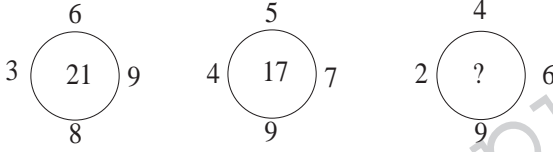
172. 21, 28, 29, 36, 38, 45, 48 ? 59, 66

- 1) 70                      2) 65                      3) 45                      4) 55

173. రంజిత్ కాలేజీ నుంచి బయలుదేరి పడమరగా 1 కి.మీ. వెళ్లాడు. ఎడమ వైపు తిరిగి 1.5 కి.మీ. వెళ్లాడు. మళ్ళీ ఎడమ వైపు తిరిగి 1 కి.మీ. వెళ్లాడు. చివరగా కుడి వైపు తిరిగి 1.5 కి.మీ. వెళ్లాడు. అయితే బయలుదేరిన స్థానం నుంచి ఇప్పుడు రంజిత్ ఎంత తక్కువ దూరంలో ఉన్నాడు?

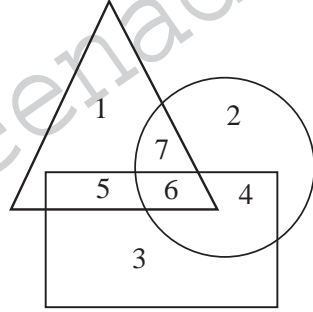
- 1) 5 కి.మీ.                      2) 2.5 కి.మీ.                      3) 3.5 కి.మీ.                      4) 3 కి.మీ.

174.



- 1) 26                      2) 25                      3) 42                      4) 24

(సూచనలు:175 – 177):



- $\Delta$  = కర్మాగారంలో పని చేసేవారు  
 $\bigcirc$  = యూనియన్ సభ్యులు  
 $\square$  = శ్రమించి పనిచేసేవారు

175. కర్మాగారంలో పనిచేసే వారిలో శ్రమించి పనిచేసే యూనియన్ సభ్యులు ఎంతమంది?

- 1) 5                      2) 4                      3) 3                      4) 6


176. శ్రమించి పనిచేసేవారు కాకుండా యూనియన్ సభ్యులు, కర్మాగారంలో పనిచేసేవారు ఎంతమంది?

- 1) 6                      2) 5                      3) 4                      4) 7

177. కర్మాగారంలో పనిచేసేవారు కాకుండా, శ్రమించి పనిచేసే యూనియన్ సభ్యులు కూడా ఉన్నారు. పై పటంలో ఏ అంకె వీరిని సూచిస్తుంది?

- 1) 3                      2) 2                      3) 1                      4) 4

178. కిందివాటిలో మహిళలు, బ్రహ్మచారిణి, టెలివిజన్ ప్రియులను సూచించే వెన్ చిత్రం ఏది?



179.

30	30	60
45	60	?
90	120	180

- 1) 90                      2) 20                      3) 145                      4) 45

(సూచనలు:180 - 182): కింది 180వ ప్రశ్న నుంచి 182వ ప్రశ్న వరకు మొదట స్టేట్‌మెంట్, ఆ తర్వాత రెండు అసంషన్స్ ఉన్నాయి. స్టేట్‌మెంట్‌ను మొదటి అసంషన్ మాత్రమే సంతృప్తిపరిస్తే సమాధానం 1 గా, రెండో అసంషన్ మాత్రమే సంతృప్తిపరిస్తే సమాధానం 2 గా, రెండూ సంతృప్తి పరచకపోతే సమాధానం 3 గా, రెండూ సంతృప్తి పరిస్తే సమాధానం 4 గా గుర్తించాలి.

180. స్టేట్‌మెంట్: నీవు ఒకవేళ దరఖాస్తుల సంఖ్యను తగ్గించాలనుకుంటే రిజిస్ట్రేషన్ రుసుమును పెంచు.

అసంషన్: 1) కొంత మంది విద్యార్థులు రిజిస్ట్రేషన్ రుసుము ఎక్కువగా ఉంటే దరఖాస్తు చేయరు.

2) ప్రస్తుతం వున్న రిజిస్ట్రేషన్ రుసుము నామమాత్రంగా ఉంది.

181. స్టేట్‌మెంట్: భారతదేశంలో అత్యంత ఎక్కువ అమ్మకాలు జరిపిన బైక్ Hero Glamour.

అసంషన్: 1) ఏ బైక్‌ను ఎంతమంది వాడుతున్నారో తెలిసినప్పుడు మాత్రమే ఎక్కువమంది వాడే బైక్‌ను చెప్పవచ్చు.

2) Heroలో అన్ని బైకులను ప్రజలు వాడుతున్నారు.

182. స్టేట్‌మెంట్: మంజూష, అనూషతో నేను నిరీష పెళ్లికి ఖరీదైన చేతి గడియారాన్ని బహుమతిగా ఇద్దామనుకుంటున్నాను అని చెప్పింది.

అసంషన్: 1) చేతిగడియారాలు పెళ్లి సందర్భంగా ఇవ్వడగిన బహుమతులు.

2) నిరీష, మంజూషని తన పెళ్లికి పిలిచింది.

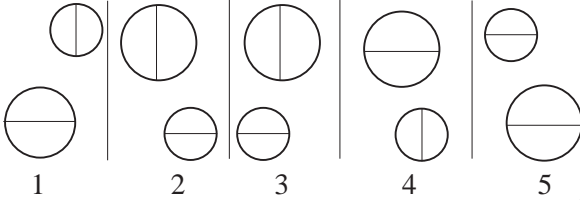
183. 6, 7 గంటల మధ్య ఎప్పుడు రెండు ముళ్లు కలిసి ఉంటాయి?

- 1) 6 గంటల  $31\frac{8}{11}$  ని.      2) 6 గంటల  $32\frac{8}{11}$  ని.      3) 6 గంటల  $33\frac{8}{11}$  ని.      4) 6 గంటల  $4\frac{4}{11}$  ని.

184. పరిమాణం A = 35%; పరిమాణం B = 0.7/2 అయితే కింది వాటిలో సరైంది ఏది?

- 1) పరిమాణం A ఎక్కువ      2) పరిమాణం B ఎక్కువ  
3) పరిమాణం A, B లు సమానం      4) నిర్ధారించలేం


185.



పై చిత్రంలో భిన్నమైంది ఏది?

- 1) 1      2) 2, 3      3) 5      4) 4

186.



సరైన సమాధానాన్ని గుర్తించండి.



- 1) 1      2) 2      3) 3      4) 4



